

**ΔΗΜΟΣΙΑ ΥΠΗΡΕΣΙΑ ΑΠΑΣΧΟΛΗΣΗΣ (Δ.ΥΠ.Α.)
Δ' ΓΕΝΙΚΗ ΔΙΕΥΘΥΝΣΗ ΕΠΑΓΓΕΛΜΑΤΙΚΗΣ ΕΚΠΑΙΔΕΥΣΗΣ
ΚΑΙ ΚΑΤΑΡΤΙΣΗΣ**

**ΔΙΕΥΘΥΝΣΗ ΠΡΟΓΡΑΜΜΑΤΩΝ, ΜΕΘΟΔΩΝ
ΔΙΔΑΣΚΑΛΙΑΣ & ΔΙΑΣΥΝΔΕΣΗΣ (Δ2)**

ΤΡΑΠΕΖΑ ΘΕΜΑΤΩΝ

Ειδικότητα: Κοινωνικών Φροντιστών

Κωδικός: 406

ΕΠΑ.Σ-ΜΑΘΗΤΕΙΑΣ Δ.ΥΠ.Α.

Ημερομηνία Σύνταξης

Δεκέμβριος 2023

**Συγγραφή Τράπεζας Θεμάτων στην Ειδικότητα:
«Κοινωνικών Φροντιστών»**

Συγγραφική ομάδα

Αφροδίτη Καπουράνη

Μαρία Κορομηλή

**Σύμβουλος μεθοδολογίας ανάπτυξης
εκπαιδευτικού εγχειριδίου**

&

τράπεζας θεμάτων

Παναγιώτης Μπαρμπαλέξης

Το περιεχόμενο της Τράπεζας Θεμάτων της ειδικότητας διαμορφώθηκε με βάση μεθοδολογικές προδιαγραφές και ειδικά πρότυπα με σκοπό την πιστοποίηση των μαθητών και μαθητριών των Επαγγελματικών Σχολών (ΕΠΑ.Σ) Μαθητείας της Δ.ΥΠ.Α.

Περιεχόμενα

Πρόλογος	4
Εισαγωγή	6
ΘΕΜΑΤΑ ΕΞΕΤΑΣΕΩΝ ΠΙΣΤΟΠΟΙΗΣΗΣ ΕΠΑΓΓΕΛΜΑΤΙΚΩΝ ΣΧΟΛΩΝ (ΕΠΑ.Σ) - Δ.ΥΠ.Α "ΚΟΙΝΩΝΙΚΩΝ ΦΡΟΝΤΙΣΤΩΝ"	7
1. Θεσμικό πλαίσιο	8
2. Διάρκεια του Θεωρητικού και του Πρακτικού των εξετάσεων.	8
3. Θεωρητικό μέρος – Γραπτές εξετάσεις	8
3.1 Ερωτήσεις πολλαπλής επιλογής	9
3.2 Απαντήσεις ερωτήσεων πολλαπλής επιλογής	55
4. Πρακτικό Μέρος των εξετάσεων	60
4.1 Ερωτήσεις πολλαπλής επιλογής	60
4.2 Απαντήσεις ερωτήσεων πολλαπλής επιλογής	75
ΒΙΒΛΙΟΓΡΑΦΙΑ	77
Βιβλιογραφικές αναφορές σχετικές με την ειδικότητα	77
Βιβλιογραφικές αναφορές σχετικές με τη Μεθοδολογία Ανάπτυξης των Τραπεζών Θεμάτων	78
Σχετική Εθνική Νομοθεσία	78

Πρόλογος

Η Τράπεζα Θεμάτων της ειδικότητας «Κοινωνικών Φροντιστών» είναι έργο το οποίο αποτελεί μία ολοκληρωμένη παρέμβαση για τη βελτίωση και ενίσχυση του θεσμού των Επαγγελματικών Σχολών Δ.ΥΠ.Α σε μια περίοδο κατά την οποία, περισσότερο από ποτέ, το αίτημα της διασύνδεσης του με την αγορά εργασίας είναι επιτακτικό και επίκαιρο. Το συγκεκριμένο έργο αποτελεί μία συστηματική προσπάθεια αντιμετώπισης χρόνιων αδυναμιών του πεδίου, αναβάθμισης του επιπέδου των παρεχόμενων γνώσεων, δεξιοτήτων και ικανοτήτων και βελτίωσης των μαθησιακών αποτελεσμάτων που απορρέουν από την επαγγελματική εκπαίδευση σε συγκεκριμένες ειδικότητες.

Ειδικότερα, στο πλαίσιο του έργου:

Αναπτύχθηκαν:

- Επικαιροποιημένοι «οδηγοί κατάρτισης»
- Συναφείς τράπεζες θεμάτων για κάθε ειδικότητα.
- Το σύνολο των παραπάνω στηρίχθηκε σε ένα ενιαίο μεθοδολογικό πλαίσιο, μέσω του οποίου επιδιώχθηκε η σύνδεση της κοινωνικής εμπειρίας της εργασίας, της εκπαίδευσης και της πιστοποίησής της, λαμβάνοντας υπόψη το ισχύον θεσμικό πλαίσιο.
- Τέλος, με γνώμονα την ενίσχυση της θετικής επενέργειας του έργου σε θεσμικό επίπεδο αναπτύχθηκε, μια μεθοδολογία ευέλικτης τακτικής περιοδικής επανεξέτασης και επικαιροποίησης των περιεχομένων των Οδηγών Κατάρτισης, των Εγχειριδίων και των Τραπεζών θεμάτων, έτσι ώστε αυτά να βρίσκονται - κατά το δυνατόν - σε αντιστοιχία με τα νέα τεχνολογικά, οργανωσιακά, εργασιακά, περιβαλλοντικά, κοινωνικά και οικονομικά δεδομένα και τις ανάγκες της αγοράς εργασίας και των εκπαιδευομένων.

Αναπτύχθηκε στο πλαίσιο του Νόμου 4763/2020 (ΦΕΚ Α' 254), με θέμα Εθνικό Σύστημα Επαγγελματικής Εκπαίδευσης, Κατάρτισης και Διά Βίου Μάθησης, ενσωμάτωση στην ελληνική νομοθεσία της Οδηγίας (ΕΕ) 2018/958 του Ευρωπαϊκού Κοινοβουλίου και του Συμβουλίου της 28ης Ιουνίου 2018 σχετικά με τον έλεγχο αναλογικότητας πριν από τη θέσπιση νέας νομοθετικής κατοχύρωσης των επαγγελμάτων (ΕΕ L 173), κύρωση της Συμφωνίας μεταξύ της Κυβέρνησης της Ελληνικής Δημοκρατίας και της Κυβέρνησης της Ομοσπονδιακής Δημοκρατίας της Γερμανίας για το Ελληνογερμανικό Ίδρυμα Νεολαίας και άλλες διατάξεις. Κεφάλαιο Ζ' Οδηγοί Κατάρτισης και Πιστοποίησης Αποφοίτων, Άρθρο 42 Πιστοποίηση αποφοίτων εδάφιο 2 και το άρθρο 2 του ιδίου .

Αποτελεί ένα χρήσιμο εργαλείο για την προετοιμασία των ενδιαφερομένων αποφοίτων των ΕΠΑ.Σ Μαθητείας της Δ.ΥΠ.Α. της συγκεκριμένης ειδικότητας στις εξετάσεις πιστοποίησης της Εκπαιδευτικής τους Επάρκειας, όπου οι επιτυχόντες λαμβάνουν Πτυχίο Επαγγελματικής Εκπαίδευσης και Κατάρτισης επιπέδου τρία (3), εγγράφονται στο μητρώο πιστοποιημένων προσώπων της περ.ζ' της παρ.1 του άρθρου 21 του ν.4115/2013 (Α' 24), που τηρείται στον Ε.Ο.Π.Π.Ε.Π. και αποκτούν την αντίστοιχη άδεια ασκήσεως επαγγέλματος, που προβλέπεται για το συγκεκριμένο επίπεδο προσόντων και δίνεται η δυνατότητα στους πιστοποιημένους απόφοιτους

των ΕΠΑ.Σ. Μαθητείας Δ.Υ.Π.Α. να εγγράφονται στη Β΄ τάξη των ΕΠΑ.Λ., σε αντίστοιχο με την ειδικότητά τους τομέα.

Το έργο αυτό συμβάλλει:

α) στη διασφάλιση της ποιότητας των διαδικασιών επικύρωσης των αποτελεσμάτων μάθησης που αποκτώνται μέσω των προγραμμάτων μάθησης στην ΕΠΑ.Σ. και μέσω των προγραμμάτων μάθησης στον εργασιακό χώρο, κατά τα οριζόμενα στην υπό στοιχεία 102791/2021 κοινή απόφαση των Υπουργών Παιδείας και Θρησκευμάτων και Εργασίας και Κοινωνικών Υποθέσεων «Κατάρτιση Κανονισμού Λειτουργίας Επαγγελματικών Σχολών (ΕΠΑ.Σ.) Μαθητείας του ΟΑΕΔ», υπουργική απόφαση (Β΄ 5832).

β) Στην ενίσχυση της διαφάνειας των διαδικασιών αναγνώρισης των αντίστοιχων προσόντων και στην ουσιαστική αναβάθμιση των προσόντων των αποφοίτων των ΕΠΑ.Σ και Π.ΕΠΑ.Σ Μαθητείας της Δ.ΥΠ.Α. οι οποίοι δραστηριοποιούνται ή πρόκειται να δραστηριοποιηθούν στο εν λόγω πεδίο.

Εισαγωγή

Στο παρόν εγχειρίδιο περιλαμβάνεται ο Κατάλογος Θεμάτων για τις εξετάσεις Πιστοποίησης των αποφοίτων των Επαγγελματικών Σχολών της Δ.ΥΠ.Α και συγκεκριμένα της ειδικότητας «Κοινωνικών Φροντιστών».

Αποτελείται από δύο μέρη, τον κατάλογο Θεωρητικής κατεύθυνσης και τον Κατάλογο Πρακτικής κατεύθυνσης. Συντάσσεται από ειδικούς επιστήμονες λαμβάνοντας υπόψη τα ισχύοντα προγράμματα σπουδών ή οδηγούς κατάρτισης και εγκρίνεται από το Δ.Σ. του Ε.Ο.Π.Π.Ε.Π μετά από εισήγηση της Κ.Ε.Ε.Π.Ε.Κ. και περιλαμβάνει εκατόν πενήντα (150) ερωτήσεις θεωρητικής κατεύθυνσης κλειστού τύπου και πενήντα (50) ερωτήσεις πρακτικής κατεύθυνσης κλειστού τύπου.

Εκ του ανωτέρω καταλόγου Θεμάτων θεωρητικής κατεύθυνσης των εξετάσεων πιστοποίησης των αποφοίτων ΕΠΑ.Σ. Μαθητείας της Δ.ΥΠ.Α. αντιστοιχεί στο πενήντα τοις εκατό (50%) της εξεταστικής διαδικασίας και περιλαμβάνει τριάντα (30) ερωτήσεις. Ο εξεταζόμενος απαιτείται να επιλέξει τη σωστή ή τις σωστές απαντήσεις από περιορισμένο αριθμό προτεινόμενων απαντήσεων.

Εκ του καταλόγου Θεμάτων πρακτικής κατεύθυνσης των εξετάσεων πιστοποίησης των αποφοίτων ΕΠΑ.Σ. Μαθητείας της Δ.ΥΠ.Α. αντιστοιχεί στο πενήντα τοις εκατό (50%) της εξεταστικής διαδικασίας και περιλαμβάνει δέκα (10) πρακτικές ερωτήσεις. Ο εξεταζόμενος απαιτείται να επιλέξει τη σωστή απάντηση ή τις σωστές απαντήσεις από περιορισμένο αριθμό προτεινόμενων απαντήσεων.

Αναπτύχθηκε προκειμένου να υποστηριχθεί το έργο του Ε.Ο.Π.Π.Ε.Π. και των λοιπών συντελεστών των εξετάσεων πιστοποίησης των Αποφοίτων των Επαγγελματικών και Πειραματικών Επαγγελματικών Σχολών της Δ.ΥΠ.Α.

Απευθύνεται, επίσης, στους/στις μαθητές/τριες αλλά και στους/στις εκπαιδευτικούς των προγραμμάτων των Επαγγελματικών Σχολών Δ.ΥΠ.Α.

Ειδικότερα, η Τράπεζα Θεμάτων αποτελείται από τέσσερις ενότητες.

- *Η Ενότητα 1 παρέχει συνοπτικά τις πληροφορίες που αφορούν το ισχύον θεσμικό πλαίσιο των εξετάσεων Πιστοποίησης των Επαγγελματικών Σχολών της Δ.ΥΠ.Α.*
- *Η Ενότητα 2 παρέχει τις πληροφορίες που αφορούν τη διάρκεια της εξέτασης του θεωρητικού και του πρακτικού τμήματος των εξετάσεων πιστοποίησης.*
- *Η Ενότητα 3 εμπεριέχει τα θέματα εξέτασης του θεωρητικού τμήματος των εξετάσεων Πιστοποίησης και τις απαντήσεις τους.*
- *Η Ενότητα 4 περιλαμβάνει ενδεικτικό Θεματολόγιο καταστάσεων/προβλημάτων για την εξέταση του πρακτικού μέρους της ειδικότητας.*

**ΘΕΜΑΤΑ ΕΞΕΤΑΣΕΩΝ ΠΙΣΤΟΠΟΙΗΣΗΣ ΕΠΑΓΓΕΛΜΑΤΙΚΩΝ ΣΧΟΛΩΝ
(ΕΠΑ.Σ) - Δ.ΥΠ.Α "ΚΟΙΝΩΝΙΚΩΝ ΦΡΟΝΤΙΣΤΩΝ"**

1. Θεσμικό πλαίσιο

Οι εξετάσεις Πιστοποίησης των Επαγγελματικών Σχολών ή/και Πειραματικών Επαγγελματικών Σχολών – Δ.ΥΠ.Α, της ειδικότητας «Κοινωνικών Φροντιστών» διεξάγονται σύμφωνα με τα οριζόμενα του ΦΕΚ 1/2024/Τ.Β'/51/Κ6/02.01.2024 «Σύστημα Πιστοποίησης αποφοίτων ΕΠΑ.Σ. Μαθητείας και Π.ΕΠΑ.Σ. Μαθητείας της Δημόσιας Υπηρεσίας Απασχόλησης (Δ.ΥΠ.Α.)». Το εξεταστικό σύστημα καθώς και η τράπεζα θεμάτων υιοθετούν τις αρχές του διεθνούς προτύπου EN ISO/IEC 17024 ως προς την εγκυρότητα, την αξιοπιστία και την αντικειμενικότητα.

2. Διάρκεια του Θεωρητικού και του Πρακτικού των εξετάσεων.

Η διάρκεια εξέτασης του θεωρητικού και του πρακτικού μέρους των εξετάσεων Πιστοποίησης των Επαγγελματικών Σχολών Δ.ΥΠ.Α, της ειδικότητας «Κοινωνικών Φροντιστών» καθορίζονται από το εκάστοτε ισχύον θεσμικό/ρυθμιστικό πλαίσιο.

3. Θεωρητικό μέρος – Γραπτές εξετάσεις

Η Ενότητα 3 περιλαμβάνει τα θέματα εξέτασης του θεωρητικού μέρους των εξετάσεων Πιστοποίησης και τις απαντήσεις τους.

Το σύνολο των ερωτήσεων που μπορούν να αξιοποιηθούν στο πλαίσιο των γραπτών εξετάσεων πιστοποίησης της ειδικότητας «Κοινωνικών Φροντιστών» είναι εκατόν πενήντα (150) ερωτήσεις.

Εκ του ανωτέρω καταλόγου Θεμάτων του θεωρητικού μέρους των εξετάσεων πιστοποίησης των αποφοίτων ΕΠΑ.Σ. Μαθητείας της Δ.ΥΠ.Α. αντιστοιχεί στο πενήντα τοις εκατό (50%) της εξεταστικής διαδικασίας και περιλαμβάνει τριάντα (30) ερωτήσεις. Ο εξεταζόμενος απαιτείται να επιλέξει τη σωστή ή τις σωστές απαντήσεις από τον περιορισμένο αριθμό προτεινόμενων απαντήσεων.

Οι ερωτήσεις διακρίνονται σε πολλαπλής επιλογής, οι οποίες διαφοροποιούνται ταυτόχρονα ως προς το είδος και ως προς τον βαθμό δυσκολίας.

ΕΡΩΤΗΣΕΙΣ ΠΟΛΛΑΠΛΗΣ ΕΠΙΛΟΓΗΣ- ΚΛΕΙΣΤΟΥ ΤΥΠΟΥ

ΟΜΑΔΑ Α. Πολλαπλής Επιλογής

Ανέρχονται σε 92 και αντιστοιχούν κατά προσέγγιση στο 60% του συνόλου των ερωτήσεων.

ΟΜΑΔΑ Β. Ερωτήσεις Σωστού/Λάθους-Ναι/Όχι

Ανέρχονται σε 38 και αντιστοιχούν κατά προσέγγιση στο 25% του συνόλου των ερωτήσεων.

ΟΜΑΔΑ Γ. Ερωτήσεις αντιστοίχισης

Ανέρχονται σε 20 και αντιστοιχούν κατά προσέγγιση στο 15% του συνόλου των ερωτήσεων

Τα θέματα αντλούνται και από τις τρεις ομάδες ερωτήσεων και επιλέγονται με ηλεκτρονική κλήρωση

3.1 Ερωτήσεις πολλαπλής επιλογής

Παρατίθεται ο κατάλογος των ερωτήσεων πολλαπλής επιλογής που μπορούν να αξιοποιηθούν στο πλαίσιο των γραπτών εξετάσεων πιστοποίησης της ειδικότητας.

ΚΑΤΑΛΟΓΟΣ ΕΡΩΤΗΣΕΩΝ ΠΟΛΛΑΠΛΗΣ ΕΠΙΛΟΓΗΣ ΓΙΑ ΤΗΝ ΑΠΟΤΙΜΗΣΗ ΓΝΩΣΕΩΝ ΚΑΙ ΔΕΞΙΟΤΗΤΩΝ

Α/Α Ερωτ.	ΕΡΩΤΗΣΕΙΣ	Μαθησιακή Ενότητα	Απαιτούμενος χρόνος απάντησης
--------------	-----------	----------------------	----------------------------------

1		<i>Ποια είναι η βασική λειτουργία των "κεντρικών μονάδων επεξεργασίας" στο ανθρώπινο νευρικό σύστημα;</i>	ΣΤΟΙΧΕΙΑ ΝΕΥΡΟΛΟΓΙΑΣ- ΨΥΧΙΑΤΡΙΚΗΣ	1 λεπτό
	α.	Μεταφορά ερεθισμάτων στους μύες		
	β.	Δημιουργία αισθητήριων ερεθισμάτων		
	γ.	Επεξεργασία προσλαμβανόμενων ερεθισμάτων και δημιουργία εντολών αντίδρασης		
	δ.	Αποθήκευση ενέργειας για φυσικές δραστηριότητες		

2		<i>Ποια είναι η κυριότερη διαγνωστική εξέταση που χρησιμοποιείται σήμερα για τις περισσότερες παθήσεις του εγκεφάλου και της σπονδυλικής στήλης;</i>	ΣΤΟΙΧΕΙΑ ΝΕΥΡΟΛΟΓΙΑΣ- ΨΥΧΙΑΤΡΙΚΗΣ	1 λεπτό
	α.	Αξονική τομογραφία (CT)		
	β.	Μαγνητική τομογραφία (MRI)		
	γ.	Ψηφιακή αγγειογραφία (DSA)		
	δ.	Ακτινογραφίες κρανίου και σπονδυλικής στήλης		

3		<i>Ποια πάθηση χαρακτηρίζεται από έντονους παροξυσμούς πόνου στη μία πλευρά του προσώπου, και μπορεί να επιδεινωθεί με τη μάσηση ή το θούρτσισμα των δοντιών;</i>	ΣΤΟΙΧΕΙΑ ΝΕΥΡΟΛΟΓΙΑΣ- ΨΥΧΙΑΤΡΙΚΗΣ	1 λεπτό
	α.	Πολλαπλή σκλήρυνση		
	β.	Νευροπάθεια του διαβήτη		
	γ.	Αθροιστική κεφαλαλγία		
	δ.	Ιδιοπαθής Νευραλγία του Τριδύμου		

4		Ποιος από τους παρακάτω ισχυρισμούς σχετικά με τις επιληπτικές κρίσεις είναι αληθής;	ΣΤΟΙΧΕΙΑ ΝΕΥΡΟΛΟΓΙΑΣ- ΨΥΧΙΑΤΡΙΚΗΣ	1 λεπτό
	α.	Οι τονικοκλωνικοί σπασμοί είναι επεισόδια που αρχίζουν αιφνίδια με απώλεια των αισθήσεων, πτώση, ακολουθούμενα από τονική και κλωνική φάση, με πιθανότητα τραυματισμού κατά τη διάρκεια της κρίσης.		
	β.	Κατά τη διάρκεια της γνήσιας αφαίρεσης, ο ασθενής συνήθως πέφτει κάτω και χάνει την επίγνωσή του για περίπου 1-2 λεπτά.		
	γ.	Οι τονικοκλωνικοί σπασμοί χαρακτηρίζονται από μια ξαφνική, προσωρινή αίσθηση ευφορίας πριν από την εκδήλωση των σπασμών.		
	δ.	Στη γνήσια αφαίρεση, ο ασθενής διατηρεί πλήρη επίγνωση και επικοινωνία με το περιβάλλον κατά τη διάρκεια των επεισοδίων.		

5		Συμπληρώστε τη λέξη/φράση που λείπει Ο υδροκέφαλος είναι μια κατάσταση που προκύπτει όταν παρεμποδίζεται η _____ ή η απορρόφηση του εγκεφαλονωτιαίου υγρού (ΕΝΥ).	ΣΤΟΙΧΕΙΑ ΝΕΥΡΟΛΟΓΙΑΣ- ΨΥΧΙΑΤΡΙΚΗΣ	1 λεπτό
	α.	διάσπαση		
	β.	κυκλοφορία		
	γ.	παραγωγή οξυγόνου		

6		Συμπληρώστε τη λέξη/φράση που λείπει Η εμπροσθοδρομική αμνησία συναντάται κυρίως στο σύνδρομο _____.	ΣΤΟΙΧΕΙΑ ΝΕΥΡΟΛΟΓΙΑΣ- ΨΥΧΙΑΤΡΙΚΗΣ	1 λεπτό
	α.	Alzheimer		
	β.	Parkinson		
	γ.	Korsakoff		

(B) 2

Τύπος ερώτησης πολλαπλής επιλογής: Σωστό - λάθος

7		<i>Η σχιζοσυναισθηματική διαταραχή είναι μια νόσος στην οποία παρατηρούνται ίδια κλινικά συμπτώματα, όπως και στη σχιζοφρένεια.</i>	ΣΤΟΙΧΕΙΑ ΝΕΥΡΟΛΟΓΙΑΣ- ΨΥΧΙΑΤΡΙΚΗΣ	1 λεπτό
	α.	Σωστό		
	β.	Λάθος		

8		<i>Στη διπολική διαταραχή τύπου I, ο ασθενής αναφέρει ένα τουλάχιστον μείζον καταθλιπτικό επεισόδιο, ένα τουλάχιστον υπομανιακό επεισόδιο αλλά ουδέποτε την παρουσία σαφούς μανιακού επεισοδίου</i>	ΣΤΟΙΧΕΙΑ ΝΕΥΡΟΛΟΓΙΑΣ- ΨΥΧΙΑΤΡΙΚΗΣ	1 λεπτό
	α.	Σωστό		
	β.	Λάθος		

9		<i>Αντιστοιχίστε τους όρους της στήλης 1 (τύπος ενδοκρανιακού όγκου) με την επεξήγηση της στήλης 2 (χαρακτηριστικά):</i>		ΣΤΟΙΧΕΙΑ ΝΕΥΡΟΛΟΓΙΑΣ- ΨΥΧΙΑΤΡΙΚΗΣ	1 λεπτό		
		ΣΤΗΛΗ 1	ΣΤΗΛΗ 2				
	α.	Καλοήθεις	1.			Μυελοβλάστωμα	
	β.	Κακοήθεις	2.			Μηνιγγίωμα	
	γ.	Πρωτοπαθείς	3.			Εγκεφαλικές μεταστάσεις από καρκίνου πνεύμονα	
δ.	Μεταστατικοί	4.	Αστροκύττωμα εγκεφαλικού ημισφαιρίου				

10		<i>Πώς μετατράπηκε η κοινωνική εργασία από μια φιλανθρωπική δράση σε ένα επαγγελματικό πεδίο;</i>	ΕΙΣΑΓΩΓΗ ΣΤΗΝ ΚΟΙΝΩΝΙΚΗ ΕΡΓΑΣΙΑ	1 λεπτό
	α.	Μέσω της ανάπτυξης θεωριών, τεχνικών και ενός συστήματος ηθικών αξιών και αρχών		
	β.	Μέσω της επικέντρωσης στη φιλανθρωπία μόνο		
	γ.	Μέσω της ενσωμάτωσης στον κρατικό μηχανισμό και ανάπτυξης ηθικών αξιών		

	δ.	Μέσω της συνεργασίας με ιδιωτικές επιχειρήσεις		
--	-----------	--	--	--

11		<i>Ποιος είναι ο κεντρικός σκοπός της κοινωνικής εργασίας όπως ορίζεται από τον Διεθνή Οργανισμό Κοινωνικών Λειτουργιών;</i>	ΕΙΣΑΓΩΓΗ ΣΤΗΝ ΚΟΙΝΩΝΙΚΗ ΕΡΓΑΣΙΑ	1 λεπτό
	α.	Η προώθηση οικονομικής ευημερίας		
	β.	Η ατομική ευτυχία και επιτυχία		
	γ.	Η κοινωνική αλλαγή και η προαγωγή της κοινωνικής δικαιοσύνης		
	δ.	Η ενίσχυση των πολιτικών δυνάμεων		

12		<i>Ποια μεταβολή υπονοείται από την τοποθέτηση της κοινωνικής αλλαγής ως κεντρικού σκοπού της κοινωνικής εργασίας;</i>	ΕΙΣΑΓΩΓΗ ΣΤΗΝ ΚΟΙΝΩΝΙΚΗ ΕΡΓΑΣΙΑ	1 λεπτό
	α.	Αποδοχή της κοινωνικής δυστυχίας ως ατομικής ευθύνης		
	β.	Αναγνώριση των δομών που παράγουν καταπιεστικές και άδικες συνθήκες		
	γ.	Έμφαση στην παθολογικοποίηση της κοινωνίας		
	δ.	Απόρριψη της ιδέας της κοινωνικής δικαιοσύνης		

13		<i>Ποια ήταν η προηγούμενη προσέγγιση της κοινωνικής εργασίας προτού τονίσει την κοινωνική αλλαγή;</i>	ΕΙΣΑΓΩΓΗ ΣΤΗΝ ΚΟΙΝΩΝΙΚΗ ΕΡΓΑΣΙΑ	1 λεπτό
	α.	Επικέντρωση στην κοινωνική δικαιοσύνη		
	β.	Επικέντρωση στην πολιτική ανάλυση		
	γ.	Επικέντρωση στην οικονομική ανάπτυξη		
	δ.	Επικέντρωση στην ατομική μεταβολή και τη βελτίωση		

14		<i>Συμπληρώστε τη λέξη/φράση που λείπει</i>	ΕΙΣΑΓΩΓΗ ΣΤΗΝ ΚΟΙΝΩΝΙΚΗ ΕΡΓΑΣΙΑ	1 λεπτό
		<i>Στην προσέγγισή της, η κριτική κοινωνική εργασία αμφισβητεί την αξία και το ιδεολογικό ρεύμα του</i>		

		_____ γιατί το ρεύμα αυτό αγνοεί ότι τα άτομα είναι μέλη ευρύτερων κοινωνικών ομάδων και μέρη ενός ευρύτερου κοινωνικού περιβάλλοντος.		
	α.	ατομικισμού		
	β.	συλλογισμού		
	γ.	πλουραλισμού		

		Συμπληρώστε τη λέξη/φράση που λείπει		
15		Η κριτική κοινωνική εργασία θεμελιώνεται στην ιδέα ότι η κοινωνία _____ και ότι τίποτα στην κοινωνία δεν είναι σταθερό ή αμετάβλητο.	ΕΙΣΑΓΩΓΗ ΣΤΗΝ ΚΟΙΝΩΝΙΚΗ ΕΡΓΑΣΙΑ	1 λεπτό
	α.	σταθεροποιείται		
	β.	απομονώνεται		
	γ.	εξελίσσεται		

		Ο αναστοχασμός είναι η ικανότητα του ανθρώπου να αναλύσει και κατανοήσει σε βάθος τις εμπειρίες των άλλων καθώς επίσης και τις δυνάμεις- παράγοντες που τις έχουν επηρεάσει	ΕΙΣΑΓΩΓΗ ΣΤΗΝ ΚΟΙΝΩΝΙΚΗ ΕΡΓΑΣΙΑ	1 λεπτό
16	α.	Σωστό		
	β.	Λάθος		

		Το περιεχόμενο της αξίας της κοινωνικής δικαιοσύνης αλλά και τα ανθρώπινα δικαιώματα δεν έχουν καθοριστική σημασία για την κριτική κοινωνική εργασία	ΕΙΣΑΓΩΓΗ ΣΤΗΝ ΚΟΙΝΩΝΙΚΗ ΕΡΓΑΣΙΑ	1 λεπτό
17	α.	Σωστό		
	β.	Λάθος		

18	Αντιστοιχίστε τους όρους της στήλης 1 (έννοιες στην κριτική κοινωνική εργασία) με την επεξήγηση της στήλης 2 (περιγραφή):			ΕΙΣΑΓΩΓΗ ΣΤΗΝ ΚΟΙΝΩΝΙΚΗ ΕΡΓΑΣΙΑ	1 λεπτό	
	ΣΤΗΛΗ 1		ΣΤΗΛΗ 2			
	α.	Κριτικές θεωρίες	1.	Αναστοχασμός, ανοιχτότητα, διερευνητική γλώσσα, αμφισβήτηση δογμάτων, ανάλυση προσωπικών πεποιθήσεων		
	β.	Κοινωνική δομή	2.	Συνθήκες που παράγονται και διατηρούνται από δυνάμεις που προστατεύουν συγκεκριμένα συμφέροντα		
	γ.	Κριτική σκέψη	3.	Αντίσταση σε καταπιεστικές δομές, προαγωγή κοινωνικής δικαιοσύνης		
δ.	Στόχοι	4.	Μαρξιστική, φεμινιστική, ριζοσπαστική, αντιρατσιστική			

19	Πώς ορίζει ο Παγκόσμιος Οργανισμός Υγείας (Π.Ο.Υ.) την "υγεία";			ΣΤΟΙΧΕΙΑ ΠΑΘΟΛΟΓΙΑΣ	1 λεπτό
	α.	Η απουσία φυσικής ή πνευματικής ασθένειας			
	β.	Η κατάσταση της τέλειας φυσικής, πνευματικής και κοινωνικής ευεξίας, και όχι απλώς η απουσία κάποιας αρρώστιας			
	γ.	Η ικανότητα ενός ατόμου να εκτελεί τις καθημερινές του δραστηριότητες χωρίς περιορισμούς			
	δ.	Η απουσία οποιασδήποτε μορφής πόνου ή δυσφορίας			

20	Ποιο από τα παρακάτω συμπτώματα συνδέεται συνήθως με λοιμώδεις αρρώστιες;			ΣΤΟΙΧΕΙΑ ΠΑΘΟΛΟΓΙΑΣ	1 λεπτό
	α.	Πυρετός, ρίγη, και διόγκωση των λεμφαδένων			
	β.	Αύξηση της όρεξης και υπερκινητικότητα			
	γ.	Περιορισμένη κινητικότητα των άκρων			
	δ.	Διπλή όραση και δυσκολία στην ομιλία			

21		<i>Ποιο από τα παρακάτω συμπτώματα ή χαρακτηριστικά ανήκει στην Ιλαρά;</i>	ΣΤΟΙΧΕΙΑ ΠΑΘΟΛΟΓΙΑΣ	1 λεπτό
	α.	Χρόνος επώασης 3-4 μέρες.		
	β.	Το εξάνθημα εμφανίζεται πρώτα στα κάτω άκρα και στη συνέχεια εξαπλώνεται στο πρόσωπο.		
	γ.	Οι κηλίδες Koplik εμφανίζονται στο βλεννογόνο των ούλων και στα μάγουλα.		
δ.	Η ανοσία που αποκτάται μετά τη θεραπεία είναι προσωρινή και διαρκεί για περίπου 5-10 χρόνια			

22		<i>Ποιο από τα παρακάτω στοιχεία ΔΕΝ αποτελεί μέρος της κλινικής παρουσίασης ή των μορφών της φυματίωσης;</i>	ΣΤΟΙΧΕΙΑ ΠΑΘΟΛΟΓΙΑΣ	1 λεπτό
	α.	Εγκατάσταση του μυκοβακτηριδίου σε άλλα όργανα όπως οι νεφροί ή το έντερο, αρκετά χρόνια μετά την αρχική πνευμονική εντόπιση		
	β.	Τραχηλική φυματιώδης λεμφαδενίτιδα που εμφανίζεται σε τραχηλικούς λεμφαδένες.		
	γ.	Φυματιώδης μηνιγγίτιδα, κυρίως σε εξασθενημένα άτομα και βρέφη.		
δ.	Συχνή εμφάνιση εξανθημάτων (πετεχίες) στην επιδερμίδα κατά τις αρχικές φάσεις της νόσου.			

23		<i>Συμπληρώστε τη λέξη/φράση που λείπει</i> <i>Οι άνθρωποι που πάσχουν από πνευμονικό εμφύσημα συχνά αντιμετωπίζουν _____ κατά την εκπνοή, κατάσταση που συνεχώς χειροτερεύει.</i>	ΣΤΟΙΧΕΙΑ ΠΑΘΟΛΟΓΙΑΣ	1 λεπτό
	α.	ναυτία		
	β.	δύσπνοια		
	γ.	ναυτία		

24		<i>Συμπληρώστε τη λέξη/φράση που λείπει</i> <i>Στους εργαζόμενους σε επαγγέλματα με υψηλή έκθεση σε σκόνη, συχνά αναπτύσσεται μια επαγγελματική πάθηση</i>	ΣΤΟΙΧΕΙΑ ΠΑΘΟΛΟΓΙΑΣ	1 λεπτό

		<i>γνωστή ως "πνευμονοκονίωση" ή "_____", η οποία προκαλείται από την εισπνοή σκόνης διοξειδίου του πυριτίου και άλλων σωματιδίων.</i>		
	α.	σιλίκωση		
	β.	ασθματική κρίση		
	γ.	υπέρταση		

		<i>Σε όλες τις παθήσεις του αναπνευστικού χρειάζεται δίαιτα με πολλά υγρά, για να γίνονται πιο ρευστά τα φλέματα και να είναι πιο εύκολη η αποβολή τους.</i>		
25	α.	Σωστό	ΣΤΟΙΧΕΙΑ ΠΑΘΟΛΟΓΙΑΣ	1 λεπτό
	β.	Λάθος		

		<i>Τα κύρια συμπτώματα και σημεία που απαντώνται στα νοσήματα του αναπνευστικού συστήματος είναι ο πόνος στην βουβωνική χώρα και οι μεταβολές στη διάθεση</i>		
26	α.	Σωστό	ΣΤΟΙΧΕΙΑ ΠΑΘΟΛΟΓΙΑΣ	1 λεπτό
	β.	Λάθος		

		<i>Αντιστοιχίστε τους όρους της στήλης 1 (στάδιο καρκίνου του εντέρου) με την επεξήγηση της στήλης 2 (χαρακτηριστικά):</i>			
		ΣΤΗΛΗ 1	ΣΤΗΛΗ 2	ΣΤΟΙΧΕΙΑ ΠΑΘΟΛΟΓΙΑΣ	1 λεπτό
27	α.	Στάδιο A	1. Ο όγκος επεκτείνεται στον ορογόνο χιτώνα, αλλά δε φτάνει στους κοντινούς λεμφαδένες.		
	β.	Στάδιο B	2. Έχει γίνει και μετάσταση σε μακρινούς λεμφαδένες.		
	γ.	Στάδιο C1	3. Ο όγκος έχει διεισδύσει και στους γειτονικούς λεμφαδένες.		
	δ.	Στάδιο C2	4. Ο όγκος περιορίζεται μόνο μέσα στο εντερικό τοίχωμα.		

--	--	--	--

--	--	--	--

28		Τι είναι η "προαγωγή της υγείας" σύμφωνα με τη διακήρυξη του Παγκόσμιου Οργανισμού Υγείας;	ΥΓΙΕΙΝΗ	1 λεπτό
	α.	Η συστηματική εφαρμογή φαρμακευτικών προϊόντων για την καταπολέμηση ασθενειών.		
	β.	Η διαδικασία μέσα στην οποία τα άτομα γίνονται ικανά να βελτιώσουν την υγεία τους.		
	γ.	Η εκπαίδευση του κοινού σχετικά με τις συνέπειες των κλινικών ασθενειών.		
	δ.	Η έρευνα και ανάπτυξη νέων τεχνολογιών και θεραπειών στον τομέα της υγείας.		

--	--	--	--

--	--	--	--

29		Ποιος από τους παρακάτω ορισμούς περιγράφει σωστά την "Πρωτοβάθμια Πρόληψη" στο πλαίσιο της δημόσιας υγείας;	ΥΓΙΕΙΝΗ	1 λεπτό
	α.	Η διάγνωση και η θεραπεία ασθενειών αφού έχουν εμφανίσει τα πρώτα συμπτώματα.		
	β.	Η εφαρμογή προληπτικών μέτρων μετά την εμφάνιση της ασθένειας, με σκοπό τη μείωση των επιπλοκών.		
	γ.	Η εφαρμογή προληπτικών μέτρων πριν την εμφάνιση της ασθένειας, όπως ο εμβολιασμός, για την αποφυγή της ανάπτυξης ασθενειών.		
	δ.	Η συνεχής παρακολούθηση χρόνιων ασθενειών για την αποτροπή περαιτέρω εξάπλωσης ή επιδείνωσης.		

--	--	--	--

--	--	--	--

30		Ποιος από τους παρακάτω κλάδους της Υγιεινής επικεντρώνεται κυρίως στην προστασία και προώθηση της ψυχικής υγείας του ατόμου, αναγνωρίζοντας την επίδραση των παραγόντων που σχετίζονται με την κοινωνική και συναισθηματική ευεξία;	ΥΓΙΕΙΝΗ	1 λεπτό
	α.	Ατομική Υγιεινή		
	β.	Δημόσια Υγιεινή		
	γ.	Κοινωνική Υγιεινή		
	δ.	Ψυχική Υγιεινή		

--	--	--	--

31		<i>Ποιος είναι ο σωστός ορισμός για την "επίπτωση" στο πλαίσιο της επιδημιολογίας;</i>	ΥΓΙΕΙΝΗ	1 λεπτό
	α.	Είναι ο αριθμός των νέων κρουσμάτων της νόσου που εμφανίζονται κατά τη διάρκεια ενός συγκεκριμένου χρονικού διαστήματος.		
	β.	Είναι το ποσοστό των ατόμων στον πληθυσμό που έχει ανοσία έναντι μιας συγκεκριμένης νόσου.		
	γ.	Είναι η διάρκεια που μια νόσος παραμένει ενδημική σε έναν πληθυσμό.		
	δ.	Είναι το σύνολο των κρουσμάτων (παλαιών και νέων) σε μία δεδομένη χρονική στιγμή.		

32		<i>Συμπληρώστε τη λέξη/φράση που λείπει</i> <i>Όταν υπάρχει _____, εκτοπίζεται το οξυγόνο από την αιμοσφαιρίνη, σχηματίζεται η ανθρακυλαιμοσφαιρίνη με αποτέλεσμα τη δηλητηρίαση</i>	ΥΓΙΕΙΝΗ	1 λεπτό
	α.	διοξείδιο του άνθρακα		
	β.	υδρογόνο		
	γ.	μονοξείδιο του άνθρακα		

33		<i>Συμπληρώστε τη λέξη/φράση που λείπει</i> <i>Στη διατήρηση των τροφίμων, ιδιαίτερα εκείνων που αλλοιώνονται γρήγορα, ένας κρίσιμος παράγοντας που πρέπει να ελέγχεται είναι η _____, καθώς επηρεάζει σημαντικά την ανάπτυξη μικροοργανισμών</i>	ΥΓΙΕΙΝΗ	1 λεπτό
	α.	πίεση της ατμόσφαιρας		
	β.	ηλιακή ακτινοβολία		
	γ.	θερμοκρασία		

34		<i>Το φθόριο μειώνει τη σκληρότητα της αδαμαντίνης του δοντιού και έτσι οδηγεί στο σχηματισμό τερηδόνας</i>	ΥΓΙΕΙΝΗ	1 λεπτό
	α.	Σωστό		

	β.	Λάθος		
--	-----------	-------	--	--

35		<i>Μέτρα προφύλαξης για τη διασφάλιση της Υγιεινής στην εργασία είναι ο εξαερισμός, οι προσωπίδες και οι στολές εργασίας</i>	ΥΓΙΕΙΝΗ	1 λεπτό
	α.	Σωστό		
	β.	Λάθος		

36		<i>Αντιστοιχίστε τους όρους της στήλης 1 με την επεξήγηση της στήλης 2:</i>		ΥΓΙΕΙΝΗ	1 λεπτό	
		ΣΤΗΛΗ 1	ΣΤΗΛΗ 2			
	α.	Επιδημία	1.			η νόσος παραμένει για μεγάλο χρονικό διάστημα σε έναν πληθυσμό.
	β.	Πανδημία	2.			η αυξημένη συχνότητα μιας νόσου.
	γ.	Ενδημία	3.			η εξάπλωση μιας επιδημίας σε άλλες χώρες και ολόκληρες Ηπείρους.
	δ.	Επιπολασμός	4.			το σύνολο των κρουσμάτων σε μία δεδομένη χρονική στιγμή.

37		<i>Που αναφέρεται ο όρος εργασιακές σχέσεις;</i>	ΠΕΡΙΒΑΛΛΟΝ ΕΡΓΑΣΙΑΣ-ΕΠΙΧΕΙΡΗΜΑΤΙΚΟΤΗΤΑ	1 λεπτό
	α.	Στις σχέσεις ανάμεσα στο κράτος και τον εργοδότη.		
	β.	Στους κανόνες που καθορίζουν τους όρους και τις συνθήκες εργασίας.		
	γ.	Στις σχέσεις ανάμεσα στο εργαζόμενο και το κράτος.		
	δ.	Κανένα από τα παραπάνω		

38		<i>Από ποιον αντιμετωπίζονται στην Ελλάδα, τα θέματα των εργασιακών σχέσεων;</i>	ΠΕΡΙΒΑΛΛΟΝ ΕΡΓΑΣΙΑΣ- ΕΠΙΧΕΙΡΗΜΑΤΙ ΚΟΤΗΤΑ	1 λεπτό
	α.	Τα ποινικά δικαστήρια.		
	β.	Τις διακρατικές συμφωνίες.		
	γ.	Το εργατικό δίκαιο.		
	δ.	Τις διαπροσωπικές σχέσεις εργαζόμενου-εργοδότη.		

39		<i>Τι είναι η κοινωνική ασφάλιση στην Ελλάδα;</i>	ΠΕΡΙΒΑΛΛΟΝ ΕΡΓΑΣΙΑΣ- ΕΠΙΧΕΙΡΗΜΑΤΙ ΚΟΤΗΤΑ	1 λεπτό
	α.	Είναι εθελοντική για όλους.		
	β.	Είναι εθελοντική για τους ελεύθερους επαγγελματίες.		
	γ.	Είναι υποχρεωτική μόνο για τους μισθωτούς.		
	δ.	Είναι υποχρεωτική για όλους.		

40		<i>Ποιος/οι είναι οι έμμεσα ασφαλισμένοι(οι);</i>	ΠΕΡΙΒΑΛΛΟΝ ΕΡΓΑΣΙΑΣ- ΕΠΙΧΕΙΡΗΜΑΤΙ ΚΟΤΗΤΑ	1 λεπτό
	α.	Ο ίδιος ο εργαζόμενος.		
	β.	Οι συγγενείς ορισμένου βαθμού.		
	γ.	Όλοι οι δημόσιοι υπάλληλοι.		
	δ.	Όλοι οι ελεύθεροι επαγγελματίες		

41		<i>Για ποιους ναι υποχρεωτικές οι ασφαλιστικές εισφορές;</i>	ΠΕΡΙΒΑΛΛΟΝ ΕΡΓΑΣΙΑΣ- ΕΠΙΧΕΙΡΗΜΑΤΙ ΚΟΤΗΤΑ	1 λεπτό
	α.	Μόνο για τον εργοδότη		
	β.	Μόνο για τον εργαζόμενο		
	γ.	Και για τον εργοδότη και τον εργαζόμενο		

	δ.	Ούτε για τον εργοδότη ούτε για τον εργαζόμενο		
--	-----------	---	--	--

42		<i>Συμπληρώστε τη λέξη/φράση που λείπει Στις εργασιακές σχέσεις, μεγάλο μέρος της προσοχής εστιάζεται στην καλυτέρευση της ποιότητας της επαγγελματικής ζωής, ιδιαίτερα σε ό,τι αφορά την _____ και ασφάλεια του περιβάλλοντος εργασίας.</i>	ΠΕΡΙΒΑΛΛΟΝ ΕΡΓΑΣΙΑΣ- ΕΠΙΧΕΙΡΗΜΑΤΙ ΚΟΤΗΤΑ	1 λεπτό
	α.	αισθητική		
	β.	κινητικότητα		
	γ.	υγιεινή		

43		<i>Συμπληρώστε τη λέξη/φράση που λείπει Η υπερεργασία είναι όταν σε μια επιχείρηση ισχύει ένα ωράριο _____ από το νόμιμο.</i>	ΠΕΡΙΒΑΛΛΟΝ ΕΡΓΑΣΙΑΣ- ΕΠΙΧΕΙΡΗΜΑΤΙ ΚΟΤΗΤΑ	1 λεπτό
	α.	μικρότερο		
	β.	μεγαλύτερο		
	γ.	ίσο		

44		<i>Η μερική απασχόληση υπάρχει, όταν ο μισθωτός προσφέρει την εργασία του ολόκληρο το νόμιμο ωράριο ή την προσφέρει μεν για μειωμένο ωράριο, αλλά η αμοιβή που του καταβάλλουν είναι αυτή που αντιστοιχεί στο πλήρες ωράριο.</i>	ΠΕΡΙΒΑΛΛΟΝ ΕΡΓΑΣΙΑΣ- ΕΠΙΧΕΙΡΗΜΑΤΙ ΚΟΤΗΤΑ	1 λεπτό
	α.	Σωστό		
	β.	Λάθος		

45		<i>Η σύμβαση εργασίας ονομάζεται η συμφωνία με την οποία ο μισθωτός αναλαμβάνει την υποχρέωση να παρέχει για</i>	ΠΕΡΙΒΑΛΛΟΝ ΕΡΓΑΣΙΑΣ-	1 λεπτό
-----------	--	--	---------------------------------	----------------

		<i>ορισμένο ή αόριστο χρόνο την εργασία του σε ορισμένο εργοδότη.</i>	ΕΠΙΧΕΙΡΗΜΑΤΙΚΟΤΗΤΑ	
	α.	Σωστό		
	β.	Λάθος		

		<i>Στη χώρα μας μόνο εργαζόμενοι του δημοσίου οφείλουν να είναι ασφαλισμένοι.</i>	ΠΕΡΙΒΑΛΛΟΝ ΕΡΓΑΣΙΑΣ-ΕΠΙΧΕΙΡΗΜΑΤΙΚΟΤΗΤΑ	1 λεπτό
46	α.	Σωστό		
	β.	Λάθος		

		<i>Αντιστοιχίστε τους όρους της στήλης 1 με την επεξήγηση της στήλης 2 για τις κατηγορίες των ασφαλιστικών κινδύνων:</i>		ΠΕΡΙΒΑΛΛΟΝ ΕΡΓΑΣΙΑΣ-ΕΠΙΧΕΙΡΗΜΑΤΙΚΟΤΗΤΑ	1 λεπτό
		ΣΤΗΛΗ 1	ΣΤΗΛΗ 2		
47	α.	Φυσικοί κίνδυνοι	1. γάμος, η εγκυμοσύνη		
	β.	Οικογενειακοί κίνδυνοι	2. το εργατικό ατύχημα, η επαγγελματική αρρώστια		
	γ.	Κοινωνικοί κίνδυνοι	3. θάνατος, το γήρας, η αναπηρία, η αρρώστια.		

		<i>Αντιστοιχίστε τους όρους της στήλης 1 με την επεξήγηση της στήλης 2:</i>		ΠΕΡΙΒΑΛΛΟΝ ΕΡΓΑΣΙΑΣ-ΕΠΙΧΕΙΡΗΜΑΤΙΚΟΤΗΤΑ	1 λεπτό
		ΣΤΗΛΗ 1	ΣΤΗΛΗ 2		
48	α.	Οργανισμός Εργατικού Δυναμικού	1. Αρμόδιος για την κάλυψη των στεγαστικών αναγκών των μισθωτών.		
	β.	Οργανισμός Εργατικής Εστίας	2. Αρμόδιος φορέας για την κάλυψη του κινδύνου της ανεργίας.		

	γ.	Οργανισμός Εργατικής Κατοικίας	3.	Αρμόδιος για την κάλυψη κοινωνικών αναγκών, όπως επιμόρφωση, ψυχαγωγία.		
--	-----------	--------------------------------	-----------	---	--	--

49		<i>Ποια είναι η πρώτη εκδήλωση του εμφράγματος του μυοκαρδίου;</i>	ΠΡΩΤΕΣ ΒΟΗΘΕΙΕΣ	1 λεπτό
	α.	Ισχυρός πόνος που μοιάζει με πόνο στηθάγχης		
	β.	Υπνηλία		
	γ.	Αίσθημα κούρασης		
	δ.	Αίσθημα χαλάρωσης		

50		<i>Τί είναι η υποθερμία;</i>	ΠΡΩΤΕΣ ΒΟΗΘΕΙΕΣ	1 λεπτό
	α.	Όταν η θερμοκρασία του σώματος είναι από 36 έως 37 °C.		
	β.	Η πτώση της θερμοκρασίας του σώματος χαμηλότερα από 35 °C.		
	γ.	Η πτώση της θερμοκρασίας του σώματος χαμηλότερα από τη θερμοκρασία του περιβάλλοντος.		
	δ.	Η πτώση της θερμοκρασίας με τη χρήση αντιπυρετικών.		

51		<i>Συμπλήρωσε τη λέξη/φράση που λείπει</i> <i>Τα κρυοπαγήματα 2^{ου} βαθμού είναι όταν _____</i>	ΠΡΩΤΕΣ ΒΟΗΘΕΙΕΣ	1 λεπτό
	α.	Η νέκρωση επεκτείνεται στους μυς, στα οστά και στους άλλους υποκείμενους ιστούς, καταλήγοντας σε γάγγραινα της περιοχής		
	β.	Το δέρμα γίνεται κόκκινο, υπάρχει ελαφρύ πρήξιμο και πόνος		
	γ.	Υπάρχει ερυθρότητα, σχηματίζονται φουσαλίδες και υφίσταται μικρού πάχους νέκρωση στο δέρμα		
	δ.	Υπάρχει νέκρωση σε όλο το πάχος του δέρματος, που μπορεί να επεκτείνεται και στον υποδόριο ιστό		

52		Τι είναι η πνευμονική εμβολή;	ΠΡΩΤΕΣ ΒΟΗΘΕΙΕΣ	1 λεπτό
	α.	Είναι η φυσιολογική λειτουργία των πνευμόνων.		
	β.	Είναι η αύξηση του όγκου του αέρα στους πνεύμονες.		
	γ.	Είναι η ενσφήνωση θρόμβου μέσα στην καρδιά.		
	δ.	Είναι η ενσφήνωση θρόμβου μέσα στην πνευμονική αρτηρία		

53		Τι είναι το έγκαυμα 1^{ου} βαθμού;	ΠΡΩΤΕΣ ΒΟΗΘΕΙΕΣ	1 λεπτό
	α.	Ενδιάμεσο έγκαυμα όπου υπάρχει βαθύτερη προσβολή του δέρματος.		
	β.	Επιφανειακό έγκαυμα που αφορά μόνο την εξωτερική στιβάδα του δέρματος.		
	γ.	Βαθύ έγκαυμα όπου υπάρχει καταστροφή όλων των στιβάδων του δέρματος.		
	δ.	Καμία από τις παραπάνω απαντήσεις.		

54		Συμπληρώστε τη λέξη/φράση που λείπει. Στο ηλεκτρικά εγκαύματα το εναλλασσόμενο ρεύμα είναι _____.	ΠΡΩΤΕΣ ΒΟΗΘΕΙΕΣ	1 λεπτό
	α.	πιο επικίνδυνο από το συνεχές.		
	β.	πιο ακίνδυνο από το συνεχές.		
	γ.	το ίδιο επικίνδυνο από το συνεχές.		

55		Συμπληρώστε τη λέξη/φράση που λείπει. Στο ηλεκτρικά εγκαύματα το συνεχές ρεύμα είναι _____.	ΠΡΩΤΕΣ ΒΟΗΘΕΙΕΣ	1 λεπτό
	α.	πιο επικίνδυνο από το εναλλασσόμενο.		
	β.	πιο ακίνδυνο από το εναλλασσόμενο.		

	Γ.	το ίδιο επικίνδυνο από το εναλλασσόμενο.		
--	-----------	--	--	--

56		Συμπληρώστε τη λέξη/φράση που λείπει. <i>Σε περίπτωση ύποπτων συμπτωμάτων στηθάγχης, είναι σημαντικό να βοηθήσουμε τον ασθενή να πάρει τα φάρμακά του, εάν έχει γνωστή στεφανιαία νόσο. Ένα συνηθισμένο φάρμακο που μπορεί να χορηγηθεί είναι η _____.</i>	ΠΡΩΤΕΣ ΒΟΗΘΕΙΕΣ	1 λεπτό
	α.	ιβουπροφαίνη		
	β.	αμοξικιλίνη		
	γ.	υπογλώσσια δισκία νιτρογλυκερίνης		

57		Στις πρώτες βοήθειες σε οξύ καρδιακό νόσημα πρέπει να ελαττώσουμε το έργο της καρδιάς	ΠΡΩΤΕΣ ΒΟΗΘΕΙΕΣ	1 λεπτό
	α.	Σωστό		
	β.	Λάθος		

58		Ο σκοπός της πήξης του αίματος είναι να μην σχηματισθεί θρόμβος στο μέρος της βλάβης.	ΠΡΩΤΕΣ ΒΟΗΘΕΙΕΣ	1 λεπτό
	α.	Σωστό		
	β.	Λάθος		

59		Οξύ έμφραγμα του μυοκαρδίου (OEM) είναι η νέκρωση τμήματος του μυοκαρδίου.	ΠΡΩΤΕΣ ΒΟΗΘΕΙΕΣ	1 λεπτό
	α.	Σωστό		
	β.	Λάθος		

60	<i>Αντιστοιχίστε τους όρους της στήλης 1 με την επεξήγηση της στήλης 2:</i>		ΠΡΩΤΕΣ ΒΟΗΘΕΙΕΣ	1 λεπτό	
	ΣΤΗΛΗ 1				ΣΤΗΛΗ 2
	α.	Η διάσειση βαρύτητας τύπου I	1.	μέτρια, όπου υπάρχει σύγχυση και αμνησία, χωρίς διαταραχή της συνείδησης	
	β.	Η διάσειση βαρύτητας τύπου II	2.	βαριά, με απώλεια συνείδησης	
γ.	Η διάσειση βαρύτητας τύπου III	3.	ήπια, όπου υπάρχει, σύγχυση χωρίς απώλεια μνήμης και συνείδησης		

61	<i>Αντιστοιχίστε τους όρους της στήλης 1 (τύπος κρουοπαγήματος) με την επεξήγηση της στήλης 2 (συμπτώματα):</i>		ΠΡΩΤΕΣ ΒΟΗΘΕΙΕΣ	1 λεπτό	
	ΣΤΗΛΗ 1				ΣΤΗΛΗ 2
	α.	1 ^{ου} βαθμού	1.	Η νέκρωση επεκτείνεται στους μυς, στα οστά και στους άλλους υποκείμενους ιστούς, καταλήγοντας σε γάγγραινα της περιοχής.	
	β.	2 ^{ου} βαθμού	2.	Υπάρχει νέκρωση σε όλο το πάχος του δέρματος, που μπορεί να επεκτείνεται και στον υποδόριο ιστό.	
	γ.	3 ^{ου} βαθμού	3.	Το δέρμα γίνεται κόκκινο, υπάρχει ελαφρύ πρήξιμο και πόνος	
δ.	4 ^{ου} βαθμού	4.	Υπάρχει ερυθρότητα, σχηματίζονται φυσαλίδες και υφίσταται μικρού πάχους νέκρωση στο δέρμα		

62		<i>Τι σχήμα έχουν οι πρωτεΐνες της μεμβράνης του κυττάρου;</i>	ΣΤΟΙΧΕΙΑ ΑΝΑΤΟΜΙΑΣ - ΦΥΣΙΟΛΟΓΙΑΣ	1 λεπτό
	α.	Τετραγωνικές		
	β.	Ακανόνιστου σχήματος		
	γ.	Σφαιρικές		
δ.	Τριγωνικές			

63		<i>Πόσα πέταλα έχει η μεμβράνη στα μιτοχόνδρια;</i>	ΣΤΟΙΧΕΙΑ ΑΝΑΤΟΜΙΑΣ - ΦΥΣΙΟΛΟΓΙΑΣ	1 λεπτό
	α.	Ένα πέταλο		
	β.	Δύο πέταλα		
	γ.	Κανένα πέταλο		
δ.	Μεγάλο αριθμό πετάλων			

64		<i>Τι μορφής είναι ο χονδρικός ιστός;</i>	ΣΤΟΙΧΕΙΑ ΑΝΑΤΟΜΙΑΣ - ΦΥΣΙΟΛΟΓΙΑΣ	1 λεπτό
	α.	Εριστικού ιστού		
	β.	Συνδετικού ιστού		
	γ.	Επιθηλιακού ιστού		
δ.	Νευρικού ιστού			

65		<i>Πως είναι τα οστά του μεταταρσίου;</i>	ΣΤΟΙΧΕΙΑ ΑΝΑΤΟΜΙΑΣ - ΦΥΣΙΟΛΟΓΙΑΣ	1 λεπτό
	α.	Μεγάλα οστά που τέμνονται μεταξύ τους		
	β.	Μικρά οστά σχεδόν παράλληλα μεταξύ τους		
	γ.	Μεγάλα και μικρά οστά σχεδόν παράλληλα μεταξύ τους		
δ.	Κανένα από τα παραπάνω			

66		<i>Πως είναι ο δεξιός βρόγχος του πνεύμονα σε σχέση με τον αριστερό;</i>	ΣΤΟΙΧΕΙΑ ΑΝΑΤΟΜΙΑΣ - ΦΥΣΙΟΛΟΓΙΑΣ	1 λεπτό
	α.	Πιο στενός και πιο κοντός από τον αριστερό		
	β.	Πιο στενός και πιο μακρύτερος από τον αριστερό		
	γ.	Πιο ευρύς και πιο κοντός από τον αριστερό		
	δ.	Ίδιος με τον αριστερό		

67		<i>Σε πόσα μέρη χωρίζεται το πάγκρεας;</i>	ΣΤΟΙΧΕΙΑ ΑΝΑΤΟΜΙΑΣ - ΦΥΣΙΟΛΟΓΙΑΣ	1 λεπτό
	α.	Τρία μέρη (κεφαλή, σώμα και ουρά)		
	β.	Δύο μέρη (πάνω και κάτω)		
	γ.	Τέσσερα μέρη (κεφαλή, σώμα, άνω και κάτω άκρα)		
	δ.	Κανένα από τα παραπάνω		

68		<i>Ποιο από τα παρακάτω χαρακτηριστικά αντιστοιχεί στη λειτουργία του περιοστίου, του λεπτού στρώματος συνδετικού ιστού που καλύπτει τα οστά;</i>	ΣΤΟΙΧΕΙΑ ΑΝΑΤΟΜΙΑΣ - ΦΥΣΙΟΛΟΓΙΑΣ	1 λεπτό
	α.	Καλύπτει τις αρθρικές επιφάνειες των οστών, εξασφαλίζοντας την ομαλή κίνηση των αρθρώσεων.		
	β.	Παρέχει θρέψη και προστασία στα οστά, συμβάλλοντας στην επούλωση και ανάπτυξή τους.		
	γ.	Δημιουργεί οπές και σωλήνες στην εξωτερική επιφάνεια των οστών για τη διέλευση αγγείων.		
	δ.	Μετατρέπεται σε χόνδρο και συμβάλλει στην ανασυγκρότηση των αρθρώσεων μετά από τραυματισμούς.		

69		<i>Ποια είναι η βασική λειτουργία του μυοκαρδίου στην καρδιά;</i>	ΣΤΟΙΧΕΙΑ ΑΝΑΤΟΜΙΑΣ - ΦΥΣΙΟΛΟΓΙΑΣ	1 λεπτό
	α.	Παραγωγή ορμονών για τη ρύθμιση της αρτηριακής πίεσης.		
	β.	Διευκόλυνση της αναπνοής μέσω της διαχείρισης των πνευματικών ρυθμών.		

	γ.	Σύσπαση και χαλάρωση για την αντλία αίματος μέσα στο κυκλοφορικό σύστημα.		
	δ.	Αποθήκευση και απελευθέρωση ενέργειας στο σύστημα του λεμφικού υγρού		

70		<i>Ποιος από τους παρακάτω παράγοντες είναι απαραίτητος για την παραγωγή των ερυθρών αιμοσφαιρίων στον ανθρώπινο οργανισμό;</i>	ΣΤΟΙΧΕΙΑ ΑΝΑΤΟΜΙΑΣ - ΦΥΣΙΟΛΟΓΙΑΣ	1 λεπτό
	α.	Βιταμίνη C		
	β.	Κάλιο		
	γ.	Ασβέστιο		
	δ.	Σίδηρος		

71		<i>Ποιο από τα παρακάτω είναι μέρος του λεπτού εντέρου;</i>	ΣΤΟΙΧΕΙΑ ΑΝΑΤΟΜΙΑΣ - ΦΥΣΙΟΛΟΓΙΑΣ	1 λεπτό
	α.	Νήστιδα		
	β.	Παγκρέας		
	γ.	Ήπαρ		
	δ.	Στομάχι		

72		<i>Συμπληρώστε τη λέξη/φράση που λείπει</i> <i>Στην καρδιά, η _____ βαλβίδα είναι γνωστή ως η μιτροειδής βαλβίδα.</i>	ΣΤΟΙΧΕΙΑ ΑΝΑΤΟΜΙΑΣ - ΦΥΣΙΟΛΟΓΙΑΣ	1 λεπτό
	α.	αριστερή κολποκοιλιακή		
	β.	δεξιά κολποκοιλιακή		
	γ.	αορτική		

73		<i>Συμπληρώστε τη λέξη/φράση που λείπει</i> <i>Στον ανθρώπινο οργανισμό, τα ερυθρά αιμοσφαίρια έχουν</i>	ΣΤΟΙΧΕΙΑ ΑΝΑΤΟΜΙΑΣ - ΦΥΣΙΟΛΟΓΙΑΣ	1 λεπτό
-----------	--	---	---	----------------

		<i>έναν κρίσιμο ρόλο, καθώς μεταφέρουν _____ από τους πνεύμονες σε διάφορα σημεία του σώματος</i>		
	α.	γλυκόζη		
	β.	οξυγόνο		
	γ.	βιταμίνες		

		<i>Συμπληρώστε τη λέξη/φράση που λείπει</i>		
74		<i>Η τροφή μετά το στομάχι, όπου διασπάται σε απλούστερες ουσίες, προωθείται προς το _____, όπου συνεχίζεται η διαδικασία της πέψης και απορρόφησης των θρεπτικών συστατικών.</i>	ΣΤΟΙΧΕΙΑ ΑΝΑΤΟΜΙΑΣ - ΦΥΣΙΟΛΟΓΙΑΣ	1 λεπτό
	α.	ήπαρ		
	β.	παχύ έντερο		
	γ.	λεπτό έντερο		

		<i>Ο σπερματικός πόρος έχει μήκος 4 – 5 μέτρα και δεν αποτελεί μέρος της εκφορητικής οδού του όρχεως.</i>	ΣΤΟΙΧΕΙΑ ΑΝΑΤΟΜΙΑΣ - ΦΥΣΙΟΛΟΓΙΑΣ	1 λεπτό
75	α.	Σωστό		
	β.	Λάθος		

		<i>Τα ούρα είναι βαρύτερα από το νερό.</i>	ΣΤΟΙΧΕΙΑ ΑΝΑΤΟΜΙΑΣ - ΦΥΣΙΟΛΟΓΙΑΣ	1 λεπτό
76	α.	Σωστό		
	β.	Λάθος		

		<i>Το ουροποιητικό σύστημα αποτελείται από τους δύο νεφρούς, τους δύο ουρητήρες, την ουροδόχο κύστη και την ουρήθρα.</i>	ΣΤΟΙΧΕΙΑ ΑΝΑΤΟΜΙΑΣ - ΦΥΣΙΟΛΟΓΙΑΣ	1 λεπτό
77	α.	Σωστό		

	β.	Λάθος		
--	-----------	-------	--	--

78		<i>Ο σπερματικός πόρος προηγείται της επιδιδυμίδας.</i>	ΣΤΟΙΧΕΙΑ ΑΝΑΤΟΜΙΑΣ - ΦΥΣΙΟΛΟΓΙΑΣ	1 λεπτό
	α.	Σωστό		
	β.	Λάθος		

79		<i>Οι παραθυρεοειδείς είναι τέσσερις μικροί αδένες ανά δύο πίσω από κάθε λοβό του θυρεοειδούς αδένου.</i>	ΣΤΟΙΧΕΙΑ ΑΝΑΤΟΜΙΑΣ - ΦΥΣΙΟΛΟΓΙΑΣ	1 λεπτό
	α.	Σωστό		
	β.	Λάθος		

80		<i>Η κλείδα είναι ένα πλατύ οστό τριγωνικού σχήματος</i>	ΣΤΟΙΧΕΙΑ ΑΝΑΤΟΜΙΑΣ - ΦΥΣΙΟΛΟΓΙΑΣ	1 λεπτό
	α.	Σωστό		
	β.	Λάθος		

81		<i>Αντιστοιχίστε τους όρους της στήλης 1 (ορμόνη) με την επεξήγηση της στήλης 2 (συντομογραφία):</i>		ΣΤΟΙΧΕΙΑ ΑΝΑΤΟΜΙΑΣ - ΦΥΣΙΟΛΟΓΙΑΣ	1 λεπτό		
		ΣΤΗΛΗ 1	ΣΤΗΛΗ 2				
	α.	Σωματοτρόπος ορμόνη	1.			ACTH	
	β.	Θυρεοειδοτρόπος ορμόνη	2.			MSH	
	γ.	Φλοιοτρόπος ορμόνη	3.			STH	
δ.	Μελανοτρόπος ή μελανοδιεγερτική ορμόνη	4.	TSH				

82	<i>Αντιστοιχίστε τους όρους της στήλης 1 (συστατικά του κυττάρου) με την επεξήγηση της στήλης 2 (χαρακτηριστικά):</i>			ΣΤΟΙΧΕΙΑ ΑΝΑΤΟΜΙΑΣ - ΦΥΣΙΟΛΟΓΙΑΣ	1 λεπτό	
	ΣΤΗΛΗ 1		ΣΤΗΛΗ 2			
	α.	Οι πρωτεΐνες	1.	σχηματίζουν τις μεμβράνες του κυττάρου.		
	β.	Τα λιπίδια	2.	είναι το κάλιο, το νάτριο, το ασβέστιο κ.α.		
	γ.	Οι υδατάνθρακες	3.	είναι δομικές και λειτουργικές.		
δ.	Οι ηλεκτρολύτες	4.	αποτελούν κυρίως τα θρεπτικά συστατικά του κυττάρου.			

83	<i>Αντιστοιχίστε τους όρους της στήλης 1 (λειτουργίες του ήπατος) με την επεξήγηση της στήλης 2 (χαρακτηριστικά):</i>			ΣΤΟΙΧΕΙΑ ΑΝΑΤΟΜΙΑΣ - ΦΥΣΙΟΛΟΓΙΑΣ	1 λεπτό	
	ΣΤΗΛΗ 1		ΣΤΗΛΗ 2			
	α.	Αιμοποίηση.	1.	γίνεται μέσω των κυττάρων Kupffer.		
	β.	Μεταβολισμός των υδατανθράκων	2.	κατά την εμβρυϊκή ζωή παράγονται ερυθρά αιμοσφαίρια.		
	γ.	Πήξη του αίματος.	3.	συνθέτει και αποθηκεύει γλυκογόνο.		
δ.	Ανοσία	4.	παραγωγή ινωδογόνου, προθρομβίνη.			

84	<i>Ποιο είναι το κύριο αντικείμενο μελέτης της κοινωνιολογίας;</i>			ΚΟΙΝΩΝΙΟΛΟΓ ΙΑ	1 λεπτό
	α.	Της εσωτερικής ψυχολογίας των ατόμων αποκομμένων από τις κοινωνικές τους σχέσεις.			
	β.	Των κοινωνικών σχέσεων, των φαινομένων και των διαδικασιών μεταξύ ατόμων και ομάδων σε μια κοινωνία.			
	γ.	Της μελέτης των φυσικών διαδικασιών και της βιολογικής εξέλιξης των ανθρώπων.			
	δ.	Των ατομικών οικονομικών επιλογών και της ανάπτυξης προσωπικών πλούτων.			

85		<i>Τι είναι η "κοινωνιολογική φαντασία" σύμφωνα με τον Αμερικανό κοινωνιολόγο C. Wright Mills;</i>	ΚΟΙΝΩΝΙΟΛΟΓΙΑ	1 λεπτό
	α.	Η ικανότητα να κατανοούμε την κοινωνική ζωή μέσα από τα μάτια ενός ατόμου που δεν έχει προσωπικές εμπειρίες.		
	β.	Η δυνατότητα να αναγνωρίζουμε και να αποδοκιμάζουμε τις κοινωνικές δομές που διέπουν την κοινωνία.		
	γ.	Η ικανότητα να συνδέουμε τις προσωπικές μας εμπειρίες με τα μεγαλύτερα ιστορικά και κοινωνικά πλαίσια.		
	δ.	Η δεξιάτητα να δημιουργούμε νέες κοινωνικές πολιτικές βασισμένες αποκλειστικά στις προσωπικές μας απόψεις και πεποιθήσεις.		

86		<i>Ποιο από τα παρακάτω χαρακτηριστικά διαφοροποιεί την κοινωνική θεωρία από την καθημερινή θεωρητική σκέψη;</i>	ΚΟΙΝΩΝΙΟΛΟΓΙΑ	1 λεπτό
	α.	Η κοινωνική θεωρία απαιτεί ένα επίπεδο συστηματοποίησης που συμμορφώνεται με τους κανόνες της λογικής, διασφαλίζοντας τη συνέπεια και τη λογική ακολουθία των ιδεών.		
	β.	Η κοινωνική θεωρία βασίζεται αποκλειστικά στην άμεση εμπειρία και τη βιωματική σχέση με τα φαινόμενα.		
	γ.	Η κοινωνική θεωρία δίνει προτεραιότητα στις προσωπικές αντιλήψεις και την υποκειμενική ερμηνεία των γεγονότων, χωρίς να αναζητά δομικές ή συστημικές εξηγήσεις.		
	δ.	Η κοινωνική θεωρία αποσκοπεί στην επιβεβαίωση των υπαρχόντων, καθημερινών αντιλήψεων και δεν αναζητά νέες ή αντιφατικές προοπτικές στην κατανόηση των κοινωνικών φαινομένων.		

87		<i>Ποιος από τους παρακάτω θεωρητικούς κοινωνιολόγους θεωρείται ο "ανάδοχος" της κοινωνιολογίας και πρότεινε τον όρο "κοινωνιολογία" για τη νέα επιστήμη;</i>	ΚΟΙΝΩΝΙΟΛΟΓΙΑ	1 λεπτό
	α.	Karl Marx		
	β.	Max Weber		
	γ.	Émile Durkheim		
	δ.	Auguste Comte		

88		<i>Ποια από τις παρακάτω περιγραφές αντικατοπτρίζει καλύτερα την "οργανική αλληλεγγύη" όπως την περιέγραφε ο Émile Durkheim;</i>	ΚΟΙΝΩΝΙΟΛΟΓΙΑ	1 λεπτό
	α.	Η κοινωνική ενότητα που προκύπτει από την αλληλεξάρτηση μεταξύ των ανθρώπων, λόγω του υψηλού καταμερισμού εργασίας και της εξειδίκευσης των ρόλων.		
	β.	Ένας τύπος κοινωνικής συνοχής που χαρακτηρίζεται από μεγάλη ομοιομορφία και συναίνεση γύρω από τις παραδοσιακές αξίες.		
	γ.	Ένα σύστημα κοινωνικής οργάνωσης στο οποίο η οικογενειακή μονάδα είναι το κυρίαρχο δομικό στοιχείο της κοινωνίας.		
	δ.	Η κατάσταση στην οποία η κοινωνική αλληλεγγύη στηρίζεται σε ισχυρούς ιεραρχικούς δεσμούς και στην απόλυτη υπακοή στην αρχή.		

89		<i>Ποιος από τους παρακάτω θεωρητικούς ΔΕΝ ανήκει στη σχολή του λειτουργισμού (φονξιοναλισμού);</i>	ΚΟΙΝΩΝΙΟΛΟΓΙΑ	1 λεπτό
	α.	Auguste Comte		
	β.	Karl Marx		
	γ.	Talcott Parsons		
	δ.	Robert K. Merton		

90		<i>Ποιος είναι ο κύριος σκοπός της κοινωνιολογίας ως επιστήμης;</i>	ΚΟΙΝΩΝΙΟΛΟΓΙΑ	1 λεπτό
	α.	Η πρόβλεψη μελλοντικών κοινωνικών τάσεων με ακρίβεια.		
	β.	Η εξάλειψη κοινωνικών αδικιών μέσω άμεσης πολιτικής δράσης.		
	γ.	Η κατανόηση και η ανάδειξη των κοινωνικών παραμέτρων σε διάφορα ζητήματα.		
	δ.	Η διεξαγωγή πειραμάτων για τη βελτίωση της ατομικής ευημερίας.		

91		<i>Ποιο από τα παρακάτω χαρακτηριστικά περιγράφει τις χώρες του λεγόμενου "Πρώτου Κόσμου";</i>	ΚΟΙΝΩΝΙΟΛΟΓΙΑ	1 λεπτό
	α.	Κυριαρχία της γεωργικής δραστηριότητας με μεγάλο ποσοστό του πληθυσμού να ασχολείται με τη γεωργία.		
	β.	Κεντρικά σχεδιασμένη οικονομία και κρατικά ελεγχόμενη παραγωγή.		
	γ.	Ενιαίο σύνολο χωρών με παρόμοιες οικονομικές συνθήκες, χωρίς διαφοροποιήσεις ανάμεσα στις περιοχές τους.		
	δ.	Υψηλό επίπεδο εκβιομηχάνισης, ελεύθερη οικονομία, και μικρό ποσοστό απασχολούμενων στη γεωργία.		

92		<i>Ποιος από τους παρακάτω ορισμούς περιγράφει καλύτερα τη διαδικασία της "κοινωνικοποίησης";</i>	ΚΟΙΝΩΝΙΟΛΟΓΙΑ	1 λεπτό
	α.	Η διαδικασία μέσω της οποίας το άτομο μαθαίνει, εσωτερικεύει τα στοιχεία του πολιτισμού της κοινωνίας και διαμορφώνει την προσωπικότητά του.		
	β.	Η επιβολή κανόνων και περιορισμών στο άτομο από οργανωμένες αρχές χωρίς χώρο για προσωπική ερμηνεία ή ανάλυση.		
	γ.	Η απομόνωση του ατόμου από τις κοινωνικές δομές και η επικέντρωση στην αυτο-συνείδηση.		
	δ.	Η διαρκής αντιπαράθεση του ατόμου με τις κοινωνικές δομές, απορρίπτοντας τους πολιτισμικούς κώδικες και τους κανόνες συμπεριφοράς.		

93		<i>Ποιο από τα παρακάτω στοιχεία περιγράφει σωστά το 'εγώ' (ego) στη θεωρία της προσωπικότητας του Σίγκμουντ Φρόυντ;</i>	ΚΟΙΝΩΝΙΟΛΟΓΙΑ	1 λεπτό
	α.	Το μέρος της προσωπικότητας που αναζητά άμεση ικανοποίηση των βασικών ενστίκτων και ροπών.		
	β.	Η συνειδητή πλευρά της προσωπικότητας που ρυθμίζεται από την πραγματικότητα και προσπαθεί να ισορροπήσει τις εσωτερικές παρορμήσεις και τους κοινωνικούς περιορισμούς .		
	γ.	Το μέρος της προσωπικότητας που αποτελείται από τους κοινωνικούς κανόνες και τις απαγορεύσεις που επιβάλλονται στο άτομο.		
	δ.	Η πλευρά της προσωπικότητας που είναι αποκλειστικά ασυνείδητη και περιλαμβάνει τα κρυμμένα ένστικτα και επιθυμίες.		

94		Συμπληρώστε τη λέξη/φράση που λείπει Από τις αρχές του 20ού αιώνα, παρατηρείται μια μείωση της σημασίας κάποιων φορέων κοινωνικοποίησης, όπως _____, οι οποίοι παλαιότερα είχαν την αποκλειστική ευθύνη για την κοινωνικοποίηση του ατόμου.	ΚΟΙΝΩΝΙΟΛΟΓΙΑ	1 λεπτό
	α.	η οικογένεια		
	β.	τα Μ.Μ.Ε.		
	γ.	τα μέσα κοινωνικής δικτύωσης		

95		Συμπληρώστε τη λέξη/φράση που λείπει Στην κοινωνιολογία, ο _____ είναι ένας από τους τρεις κύριους τύπους κοινωνικού ελέγχου και αναφέρεται στον έλεγχο που ασκείται από τον ίδιο τον άνθρωπο, βασιζόμενος στις εσωτερικές του πεποιθήσεις και αξίες	ΚΟΙΝΩΝΙΟΛΟΓΙΑ	1 λεπτό
	α.	υποκειμενικός έλεγχος		
	β.	αυτοέλεγχος		
	γ.	εξωτερικός έλεγχος		

96		Συμπληρώστε τη λέξη/φράση που λείπει Σύμφωνα με τον Karl Marx, η αστική τάξη διαφέρει από την εργατική τάξη βάσει της κατοχής των _____.	ΚΟΙΝΩΝΙΟΛΟΓΙΑ	1 λεπτό
	α.	μέσων παραγωγής		
	β.	τεχνολογικών εφευρέσεων		
	γ.	καταναλωτικών αγαθών		

97		Το έγκλημα είναι για τον κοινωνιολόγο μια κοινωνική κατασκευή που αντιπροσωπεύει μια συμπεριφορά που χαρακτηρίζεται από ένα κοινωνικό σύνολο ως αντικοινωνική, αντίθετη προς την επικρατούσα ηθική, και συνεπάγεται την επιβολή κυρώσεων	ΚΟΙΝΩΝΙΟΛΟΓΙΑ	1 λεπτό
	α.	Σωστό		

	β.	Λάθος		
--	-----------	-------	--	--

98		<i>Η μαρξιστική θεωρία, προϋποθέτει ότι η προσωπικότητα διαδραματίζει πρωτεύοντα ρόλο στην εγκληματικότητα</i>	ΚΟΙΝΩΝΙΟΛΟΓΙΑ	1 λεπτό
	α.	Σωστό		
	β.	Λάθος		

99		<i>Τα στερεότυπα είναι υπεραπλουστευμένες και (αυθαίρετα συχνά) γενικευμένες (θετικές ή αρνητικές) αντιλήψεις των ατόμων οι οποίες δημιουργούνται στην προσπάθειά τους να κατανοήσουν την πραγματικότητα.</i>	ΚΟΙΝΩΝΙΟΛΟΓΙΑ	1 λεπτό
	α.	Σωστό		
	β.	Λάθος		

100		<i>Ο εθνικισμός ορίζεται η αγάπη για την πατρίδα.</i>	ΚΟΙΝΩΝΙΟΛΟΓΙΑ	1 λεπτό
	α.	Σωστό		
	β.	Λάθος		

101		<i>Ο εθνικοαπελευθερωτικός πόλεμος έχει ως σκοπό την ανεξαρτησία του έθνους-κράτους που βρίσκεται υπό ξένη κατοχή.</i>	ΚΟΙΝΩΝΙΟΛΟΓΙΑ	1 λεπτό
	α.	Σωστό		
	β.	Λάθος		

102	<i>Αυτό που δείχνει τη μετάβαση από την αγροτική στη βιομηχανική κοινωνία είναι η παραγωγή και η αξιοποίηση της πληροφορίας και της γνώσης.</i>		ΚΟΙΝΩΝΙΟΛΟΓΙΑ	1 λεπτό
	α.	Σωστό		
	β.	Λάθος		

103	<i>Αντιστοιχίστε τους όρους της στήλης 1 (μηχανισμός άμυνας) με την επεξήγηση της στήλης 2 (περιγραφή της λειτουργίας):</i>			ΚΟΙΝΩΝΙΟΛΟΓΙΑ	1 λεπτό	
	ΣΤΗΛΗ 1		ΣΤΗΛΗ 2			
	α.	Απόθνηση	1.	Το άτομο εκδηλώνει σε ένα άλλο αντικείμενο μια παρόρμησή του, διότι δεν μπορεί να την εκδηλώσει στο ίδιο το αντικείμενο που του προκαλεί τη δυσάρεστη κατάσταση.		
	β.	Άρνηση	2.	Το άτομο αποφεύγει να αντιμετωπίσει δυσάρεστες σκέψεις, συναισθήματα και γεγονότα που του προξενούν άγχος, αρνούμενο την πραγματικότητα.		
	γ.	Προβολή	3.	Το άτομο απωθεί στο ασυνείδητο ανεπιθύμητες επιθυμίες, σκέψεις, παρορμήσεις, εμπειρίες που αντιτίθενται στις επιταγές του εγώ.		
δ.	Μετάθεση	4.	Το άτομο προβάλλει σε άλλους τάσεις, σκέψεις και κίνητρα που στο ίδιο προκαλούν άγχος ή δεν του είναι αποδεκτά.			

104	Αντιστοιχίστε τους όρους της στήλης 1 με την επεξήγηση της στήλης 2:		ΚΟΙΝΩΝΙΟΛΟΓΙΑ	1 λεπτό	
	ΣΤΗΛΗ 1				ΣΤΗΛΗ 2
	α.	Πολιτική επιστήμη	1.	μελετά την παραγωγή, την κατανομή και την κατανάλωση αγαθών και υπηρεσιών.	
	β.	Κοινωνική ανθρωπολογία	2.	μελετά θέματα εκλογικής συμπεριφοράς, καθώς και ανάδειξης, κατανομής και διαχείρισης της εξουσίας.	
	γ.	Κοινωνιολογία	3.	μελετά την κοινωνική ζωή κυρίως αγροτικών κοινωνιών.	
δ.	Οικονομική επιστήμη	4.	περιγράφει την ανθρώπινη συμπεριφορά από την οπτική της κοινωνικής ομάδας.		

105	Αντιστοιχίστε τους όρους της στήλης 1 (τύπος εξουσία κατά Max Weber) με την επεξήγηση της στήλης 2 (περιγραφή):		ΚΟΙΝΩΝΙΟΛΟΓΙΑ	1 λεπτό	
	ΣΤΗΛΗ 1				ΣΤΗΛΗ 2
	α.	Παραδοσιακή Εξουσία	1.	Βασίζεται στο προσωπικό χάρισμα και τις ξεχωριστές ικανότητες ενός ατόμου, όπως η ικανότητα να πείθει και να καθοδηγεί τους οπαδούς.	
	β.	Χαρισματική Εξουσία	2.	Βασίζεται στους καθιερωμένους νόμους και κανόνες, στην εξουσία που απορρέει από μια συγκεκριμένη θέση ή καθήκον.	
	γ.	Νομική-Ρητορική Εξουσία	3.	Βασίζεται στις παραδόσεις και το εθιμικό δίκαιο, με την εξουσία να μεταβιβάζεται συχνά εντός οικογενειών ή ομάδων.	
δ.	Πατερναλιστική Εξουσία	4.	Βασίζεται στην προσωπική φροντίδα και προστασία που		

			παρέχει ένας ηγέτης, συνήθως με πατερναλιστικό τρόπο, όπου ο ηγέτης "ξέρει καλύτερα" για τις ανάγκες και τα συμφέροντα των υποτελών.		
--	--	--	--	--	--

106		<i>Ποια ήταν μία από τις βασικές αντιλήψεις σχετικά με την αιτία των ασθενειών κατά την προχριστιανική εποχή σε διάφορες αρχαίες πολιτισμούς;</i>		ΝΟΣΗΛΕΥΤΙΚΗ	1 λεπτό
	α.	Οι ασθένειες ήταν τιμωρία από τους θεούς λόγω των αμαρτιών των ανθρώπων.			
	β.	Οι ασθένειες προκλήθηκαν από φυσικές ανισορροπίες στο σώμα του ανθρώπου.			
	γ.	Οι ασθένειες προκλήθηκαν από κακή διατροφή και έλλειψη άσκησης.			
δ.	Οι ασθένειες ήταν αποτέλεσμα γενετικών κληρονομικών παραγόντων.				

107		<i>Ποια ήταν η πρώτη γυναίκα που ίδρυσε την πρώτη Νοσηλευτική Σχολή στον κόσμο και ανέπτυξε την πρώτη θεωρητική κατεύθυνση της νοσηλευτικής;</i>		ΝΟΣΗΛΕΥΤΙΚΗ	1 λεπτό
	α.	Abigail Adams			
	β.	Florence Nightingale			
	γ.	Clara Barton			
δ.	Elizabeth Blackwell				

108		<i>Ποιο είναι ένα σημαντικό στοιχείο που πρέπει να λαμβάνουν υπόψη οι επαγγελματίες υγείας όταν εισάγουν έναν ασθενή στο νοσοκομείο;</i>		ΝΟΣΗΛΕΥΤΙΚΗ	1 λεπτό
	α.	Πρέπει να επικεντρώνονται αποκλειστικά στην ιατρική διάγνωση, αγνοώντας τις προσωπικές ανησυχίες του ασθενούς.			
	β.	Οι ασθενείς πρέπει να αντιμετωπίζονται ως απλές περιπτώσεις νόσου, χωρίς συναισθηματικές ή κοινωνικές ανάγκες.			
γ.	Είναι σημαντικό να αναγνωρίζουν την πολυδιάστατη έννοια της νόσου και να έχουν την ενδεδειγμένη συμπεριφορά προς τον ασθενή και την οικογένειά του.				

	δ.	Οι ασθενείς πρέπει να προσαρμοστούν αυτόματα στο νέο περιβάλλον χωρίς πρόσθετη υποστήριξη ή κατανόηση από το προσωπικό υγείας.		
--	-----------	--	--	--

		<i>Ποιος από τους παρακάτω ρόλους ΔΕΝ αποτελεί μέρος των καθηκόντων του νοσηλευτικού προσωπικού κατά τη διάρκεια μιας ιατρικής εξέτασης;</i>		
109	α.	Προετοιμασία του ασθενούς, συμπεριλαμβανομένης της τοποθέτησής του στην κατάλληλη θέση.	ΝΟΣΗΛΕΥΤΙΚΗ	1 λεπτό
	β.	Προετοιμασία των απαραίτητων οργάνων και συλλογή δειγμάτων για εργαστηριακές εξετάσεις.		
	γ.	Ενημέρωση και προετοιμασία του ασθενούς σχετικά με τη διαδικασία της εξέτασης.		
	δ.	Διεξαγωγή της ιατρικής εξέτασης και λήψη της τελικής διάγνωσης.		

		<i>Ποιο είναι το πρώτο στάδιο της νοσηλευτικής διεργασίας σύμφωνα με τον Παγκόσμιο Οργανισμό Υγείας;</i>		
110	α.	Η αξιολόγηση των αποτελεσμάτων της νοσηλείας	ΝΟΣΗΛΕΥΤΙΚΗ	1 λεπτό
	β.	Η ανάλυση των ευρημάτων		
	γ.	Η εκτίμηση της κατάστασης του αρρώστου		
	δ.	Η εφαρμογή του προγράμματος της νοσηλευτικής φροντίδας		

		<i>Ποια από τις παρακάτω περιγραφές αντιστοιχεί στην κατάσταση της 'υπερπυρεξίας';</i>		
111	α.	Αύξηση της θερμοκρασίας του σώματος πάνω από 38° C	ΝΟΣΗΛΕΥΤΙΚΗ	1 λεπτό
	β.	Αύξηση της θερμοκρασίας του σώματος πάνω από 40° C		
	γ.	Πτώση της θερμοκρασίας του σώματος κάτω από 36° C		
	δ.	Θερμοκρασία του σώματος μεταξύ 37,2° C και 37,6° C κατά τις απογευματινές ώρες		

112		<i>Πού μπορεί να ψηλαφηθεί ο αρτηριακός σφυγμός;</i>	ΝΟΣΗΛΕΥΤΙΚΗ	1 λεπτό
	α.	Στην κροταφική αρτηρία		
	β.	Στη φλεβική αρτηρία		
	γ.	Στην υποδόρια αρτηρία		
δ.	Στη σπονδυλική αρτηρία			

113		<i>Ποιος από τους παρακάτω παράγοντες ΔΕΝ επηρεάζει άμεσα την αρτηριακή πίεση;</i>	ΝΟΣΗΛΕΥΤΙΚΗ	1 λεπτό
	α.	Η ελαστικότητα των αγγείων		
	β.	Η ηλικία και το φύλο		
	γ.	Η γλοιότητα του αίματος		
δ.	Το επίπεδο της συγκέντρωσης γλυκόζης στο αίμα			

114		<i>Ποιο από τα παρακάτω βήματα ΔΕΝ αποτελεί σωστή πρακτική κατά τη βοήθεια ενός αρρώστου στο φαγητό;</i>	ΝΟΣΗΛΕΥΤΙΚΗ	1 λεπτό
	α.	Ο νοσηλευτής κάθεται σε κάθισμα δίπλα στον άρρωστο και κάνει ευχάριστη συζήτηση, ενθαρρύνοντας την πρόσληψη τροφής.		
	β.	Ο νοσηλευτής αγνοεί τις προτιμήσεις του αρρώστου στο φαγητό, επικεντρώνοντας την προσοχή αποκλειστικά στη θρεπτική αξία.		
	γ.	Ο νοσηλευτής δοκιμάζει τη θερμοκρασία του φαγητού πριν το προσφέρει στον άρρωστο, εξασφαλίζοντας την ασφάλεια και την άνεση.		
δ.	Ο νοσηλευτής ενημερώνει το φύλλο νοσηλείας μετά τη σίτιση, καταγράφοντας σχετικές πληροφορίες για την πρόσληψη τροφής και την αντίδραση του αρρώστου.			

115		<i>Ποιος είναι ο κύριος σκοπός της ολικής παρεντερικής διατροφής (Ο.Π.Δ.) στους ασθενείς;</i>	ΝΟΣΗΛΕΥΤΙΚΗ	1 λεπτό
	α.	Αναπλήρωση θρεπτικών συστατικών όταν είναι αδύνατη η		

	χρήση της γαστρεντερικής οδού		
β.	Ενθάρρυνση της γρήγορης ανάπτυξης των μυών στο σώμα		
γ.	Καθυστέρηση της ανάγκης για χειρουργικές επεμβάσεις		
δ.	Αντικατάσταση της κανονικής πρόσληψης τροφής μακροπρόθεσμα		

	<i>Ποια από τις παρακάτω πρακτικές ΔΕΝ συνιστάται ως μέρος της νοσηλευτικής φροντίδας για ασθενείς που αντιμετωπίζουν έλκος και ακολουθούν συντηρητική θεραπεία;</i>			
116	α.	Μικρά και συχνά γεύματα, περιλαμβάνοντας ενδιάμεσα γεύματα όπως γάλα ή γιαούρτι.	ΝΟΣΗΛΕΥΤΙΚΗ	1 λεπτό
	β.	Διατήρηση ενός ήρεμου περιβάλλοντος και παροχή ψυχολογικής υποστήριξης στον ασθενή.		
	γ.	Προώθηση αλλαγής στον τρόπο ζωής, όπως η διακοπή του καπνίσματος και η αποφυγή ερεθιστικών ουσιών στη διατροφή.		
	δ.	Ενθάρρυνση των ασθενών να συνεχίσουν τις καθημερινές τους δραστηριότητες κατά τη διάρκεια της οξείας φάσης της ασθένειας.		

	<i>Συμπληρώστε τη λέξη/φράση που λείπει</i>			
117		<i>Στη οξεία φλεγμονώδη νόσο του παχέος εντέρου, ένα σημαντικό σύμπτωμα που συνοδεύει τη διάρροια είναι η παρουσία _____, _____ και πύον στις κενώσεις</i>	ΝΟΣΗΛΕΥΤΙΚΗ	1 λεπτό
	α.	βλέννης, αίματος		
	β.	τροφής, υγρών		
	γ.	λίπους, ινών		

	<i>Συμπληρώστε τη λέξη/φράση που λείπει</i>			
118		<i>Σε περίπτωση οξείας περιτονίτιδας, μία από τις πρώτες δράσεις που πρέπει να γίνει στη νοσηλευτική φροντίδα είναι η τοποθέτηση του ασθενούς σε θέση _____.</i>	ΝΟΣΗΛΕΥΤΙΚΗ	1 λεπτό
	α.	Trendelenburg		
	β.	Όρθια		
	γ.	Fowler		



119		<i>Στη βρογχοσκόπηση χορηγείται ηρεμιστικό φάρμακο (δίνεται συνήθως το βράδυ της προηγούμενης ημέρας) και ατροπίνη, για την αναστολή των εκκρίσεων, σύμφωνα με την ιατρική οδηγία.</i>	ΝΟΣΗΛΕΥΤΙΚΗ	1 λεπτό
	α.	Σωστό		
	β.	Λάθος		

120		<i>Η δύσπνοια είναι αντανακλαστικό, που εκδηλώνεται με βίαιη, απότομη και θορυβώδη εκπνοή</i>	ΝΟΣΗΛΕΥΤΙΚΗ	1 λεπτό
	α.	Σωστό		
	β.	Λάθος		

121		<i>Η αιμόπτυση είναι η έξοδος αίματος από την αναπνευστική οδό με βήχα</i>	ΝΟΣΗΛΕΥΤΙΚΗ	1 λεπτό
	α.	Σωστό		
	β.	Λάθος		

122		<i>Μάσκα με ασκό πλήρους επανεισπνοής έχει ειδικό ρυθμιστικό μηχανισμό, εξασφαλίζονται συγκεκριμένες και σταθερές ποσότητες O₂</i>	ΝΟΣΗΛΕΥΤΙΚΗ	1 λεπτό
	α.	Σωστό		
	β.	Λάθος		

123		<i>Οξυγονοθεραπεία ονομάζεται η χορήγηση οξυγόνου για θεραπευτικό σκοπό.</i>	ΝΟΣΗΛΕΥΤΙΚΗ	1 λεπτό
	α.	Σωστό		

	β.	Λάθος		
--	-----------	-------	--	--

124		<i>Στον πνευμονιόκοκκο ο άρρωστος δεν ενθαρρύνεται να βήχει για να μην αποβάλλονται οι εκκρίσεις του.</i>		ΝΟΣΗΛΕΥΤΙΚΗ	1 λεπτό
	α.	Σωστό			
	β.	Λάθος			

125		<i>Αντιστοιχίστε τους όρους της στήλης 1 (τύπος ασθενή) με την επεξήγηση της στήλης 2 (φυσιολογικές τιμές συστολικής αρτηριακής πίεσης):</i>		ΝΟΣΗΛΕΥΤΙΚΗ	1 λεπτό			
		ΣΤΗΛΗ 1	ΣΤΗΛΗ 2					
	α.	Άνδρες 20–45 χρονών	1.			100 mmHg		
	β.	Γυναίκες 20–45 χρονών	2.			110–140 mmHg		
	γ.	Παιδιά 4 χρονών	3.			80 mmHg		
δ.	Νεογέννητα	4.	100–130 mmHg					

126		<i>Αντιστοιχίστε τους όρους της στήλης 1 (μορφές δύσπνοιας) με την επεξήγηση της στήλης 2:</i>		ΝΟΣΗΛΕΥΤΙΚΗ	1 λεπτό			
		ΣΤΗΛΗ 1	ΣΤΗΛΗ 2					
	α.	Δύσπνοια προσπάθειας	1.			παρατηρείται δύσπνοια μετά από μέτρια προσπάθεια του αρρώστου και υποχώρησή της, αφού αυτός αναπαυθεί.		
	β.	Ορθόπνοια	2.			περιοδική αναπνοή με βαθμιαία αύξηση του βάθους της αναπνοής και βαθμιαία μείωση μέχρι άπνοιας.		
γ.	Παροξυσμική νυκτερινή δύσπνοια	3.	συμβαίνει, όταν ο ασθενής δυσκολεύεται να αναπνεύσει σε ύπτια θέση και					

				διευκολύνεται η αναπνοή σε όρθια θέση.		
	δ.	Αναπνοή Cheyne-Stokes	4.	είναι η ξαφνική δυσφορία του ατόμου τη νύχτα, ενώ είναι ξαπλωμένο.		

		Αντιστοιχίστε τους όρους της στήλης 1 (ειδικές διαγνωστικές εξετάσεις της καρδιάς) με την επεξήγηση της στήλης 2:		ΝΟΣΗΛΕΥΤΙΚΗ	1 λεπτό	
		ΣΤΗΛΗ 1	ΣΤΗΛΗ 2			
127	α.	Το ηλεκτροκαρδιογράφημα (ΗΚΓ).	1.	ελέγχονται οι κοιλότητες της καρδιάς, η αύξηση του περικαρδιακού υγρού, οι βαλβίδες & η συσταλτικότητα του μυοκαρδίου.		
	β.	Η τηλεακτινογραφία καρδιάς	2.	μετρά την ταχύτητα και την κατεύθυνση ροής του αίματος.		
	γ.	Το υπερηχοκαρδιογράφημα	3.	δίνει πληροφορίες για το μέγεθος της καρδιάς και των μεγάλων αγγείων καθώς και παραμορφώσεις τους.		
	δ.	Το ηχοκαρδιογράφημα Doppler	4.	καταγράφεται το ηλεκτρικά δυναμικό της καρδιάς.		

		Πώς ασκούν κυρίως τη δράση τους τα φάρμακα στον ανθρώπινο οργανισμό;			
128	α.	Δημιουργώντας μια φυσική ασπίδα γύρω από τα κύτταρα που αποτρέπει την είσοδο παθογόνων οργανισμών.		ΦΑΡΜΑΚΟΛΟΓΙΑ	1 λεπτό
	β.	Ενεργώντας μέσω των φυσικοχημικών τους ιδιοτήτων ή συνδέονται με συγκεκριμένους υποδοχείς στον οργανισμό.			
	γ.	Αλλάζοντας τη γενετική σύνθεση των κυττάρων ώστε να μην επηρεάζονται από ιούς ή βακτήρια.			
	δ.	Εκπέμποντας ηλεκτρομαγνητικά κύματα που διαταράσσουν τη λειτουργία παθογόνων οργανισμών.			

		Ποιος είναι ο ρόλος των υποδοχέων στη φαρμακολογική δράση ενός φαρμάκου;		
129	α.	Οι υποδοχείς αποθηκεύουν τα φάρμακα μέσα στο κύτταρο για μελλοντική χρήση.	ΦΑΡΜΑΚΟΛΟ ΓΙΑ	1 λεπτό
	β.	Οι υποδοχείς ενεργοποιούνται από τα φάρμακα για να παράγουν ενέργεια μέσω βιοχημικών αντιδράσεων.		
	γ.	Οι υποδοχείς λειτουργούν ως στόχοι στους οποίους δεσμεύονται τα φάρμακα, ενεργοποιώντας ή αναστέλλοντας τις κυτταρικές λειτουργίες.		
	δ.	Οι υποδοχείς μετατρέπουν τα φάρμακα σε άλλες φαρμακευτικές ουσίες μέσω μεταβολισμού.		

		Πώς περιγράφεται η σχέση μεταξύ ενός φαρμάκου και του αντίστοιχου υποδοχέα του στο σώμα;		
130	α.	Το φάρμακο και ο υποδοχέας "ταιριάζουν" μεταξύ τους, όπως το κλειδί στην κλειδαριά, και η ένταση της αντίδρασης εξαρτάται από τη χημική συγγένεια και την εκλεκτικότητα του φαρμάκου.	ΦΑΡΜΑΚΟΛΟ ΓΙΑ	1 λεπτό
	β.	Το φάρμακο και ο υποδοχέας συνδέονται τυχαία, χωρίς καμία συγκεκριμένη προτίμηση ή επιλεκτικότητα.		
	γ.	Κάθε φάρμακο μπορεί να συνδεθεί με οποιοδήποτε υποδοχέα, και η αντίδραση που προκαλείται είναι πάντα η ίδια, ανεξάρτητα από τον υποδοχέα.		
	δ.	Οι υποδοχείς ενεργοποιούνται από οποιαδήποτε ουσία εισέρχεται στο σώμα, εξασφαλίζοντας ότι όλες οι φυσιολογικές αντιδράσεις είναι προβλέψιμες.		

		Τι αποτελεί την πιθανή αιτία για την ανάπτυξη ανοχής σε ένα φάρμακο κατά τη διάρκεια επανειλημμένων χορηγήσεων;		
131	α.	Αύξηση της παραγωγής υποδοχέων, οδηγώντας σε υπερβολική αντίδραση στο φάρμακο.	ΦΑΡΜΑΚΟΛΟ ΓΙΑ	1 λεπτό
	β.	Σταθεροποίηση της δραστηριότητας των ενζύμων που μεταβολίζουν το φάρμακο, εμποδίζοντας την αδρανοποίηση και την αποβολή του.		
	γ.	Ενίσχυση της βιολογικής διαθεσιμότητας του φαρμάκου, προκαλώντας μία έντονη και αμετάβλητη φαρμακολογική αντίδραση.		
	δ.	Ελάττωση της ανταπόκρισης των υποδοχέων ή αύξηση της δραστηριότητας των ενζύμων που μεταβολίζουν το φάρμακο, οδηγώντας σε ταχύτερη αδρανοποίηση και		

	αποβολή.		
--	----------	--	--

	<i>Ποια από τις παρακάτω περιγραφές αντιπροσωπεύει την 'αθροιστική δράση' στις αλληλεπιδράσεις φαρμάκων</i>			
132	α.	Το αποτέλεσμα της συγχορήγησης δύο φαρμάκων είναι ίσο με το άθροισμα της αναμενόμενης δράσης τους.	ΦΑΡΜΑΚΟΛΟ ΓΙΑ	1 λεπτό
	β.	Το αποτέλεσμα της συγχορήγησης δύο φαρμάκων είναι μικρότερο από την αναμενόμενη αθροιστική δράση τους.		
	γ.	Το αποτέλεσμα της συγχορήγησης δύο φαρμάκων είναι μεγαλύτερο από το άθροισμα της αναμενόμενης δράσης τους.		
	δ.	Ένα φάρμακο ακυρώνει πλήρως την δράση ενός άλλου φαρμάκου.		

	<i>Ποιος από τους παρακάτω τύπους ανταγωνισμού χαρακτηρίζεται από την εμφάνιση αντίθετων αποτελεσμάτων σε μια φυσιολογική λειτουργία από δύο διαφορετικές ουσίες</i>			
133	α.	Φαρμακολογικός ανταγωνισμός	ΦΑΡΜΑΚΟΛΟ ΓΙΑ	1 λεπτό
	β.	Φυσιολογικός ανταγωνισμός		
	γ.	Μεταβολικός ανταγωνισμός		
	δ.	Συνεργιστικός ανταγωνισμός		

	<i>Ποιος από τους παρακάτω φραγμούς στον ανθρώπινο οργανισμό διαπραγματεύεται τη διέλευση φαρμάκων και άλλων ουσιών, προστατεύοντας ειδικά τον εγκέφαλο από πιθανή τοξικότητα;</i>			
134	α.	Αιματοεγκεφαλικός φραγμός	ΦΑΡΜΑΚΟΛΟ ΓΙΑ	1 λεπτό
	β.	Αιματοορχικός φραγμός		
	γ.	Αιματοεγκεφαλικός φραγμός		
	δ.	Αιματοκαρδιακός φραγμός		

135		<i>Ποιο από τα παρακάτω συστατικά ανήκει στο αυτόνομο νευρικό σύστημα και χαρακτηρίζεται από την κраниοϊερή προέλευση των νευρώνων του;</i>	ΦΑΡΜΑΚΟΛΟΓΙΑ	1 λεπτό
	α.	Συμπαθητικό νευρικό σύστημα		
	β.	Κεντρικό νευρικό σύστημα		
	γ.	Σωματικό νευρικό σύστημα		
δ.	Παρασυμπαθητικό νευρικό σύστημα			

136		<i>Ποια είναι η χημική ουσία που απελευθερώνουν οι νευρικές απολήξεις και προκαλεί τη συστολή των μυών;</i>	ΦΑΡΜΑΚΟΛΟΓΙΑ	1 λεπτό
	α.	Ακετυλοχολίνη		
	β.	Γλουταμικό οξύ		
	γ.	Δοπαμίνη		
δ.	Σεροτονίνη			

137		<i>Ποια είναι η πρωταρχική νευροδιαβιβαστική ουσία που απελευθερώνεται από τις τελικές απολήξεις του συμπαθητικού νευρικού συστήματος;</i>	ΦΑΡΜΑΚΟΛΟΓΙΑ	1 λεπτό
	α.	Ακετυλοχολίνη		
	β.	Γλουταμινικό οξύ		
	γ.	Νοραδρεναλίνη		
δ.	Γάμμα-αμινοβουτυρικό οξύ (GABA)			

138		<i>Συμπληρώστε τη λέξη/φράση που λείπει</i> <i>Στο συμπαθητικό νευρικό σύστημα, οι μεταγαγγλιακοί νευρώνες αποκαλούνται _____ επειδή απελευθερώνουν κυρίως νοραδρεναλίνη.</i>	ΦΑΡΜΑΚΟΛΟΓΙΑ	1 λεπτό
	α.	αδρενεργικοί		
	β.	χολινεργικοί		
	γ.	δοπαμινεργικοί		

--	--	--	--

139		<i>Συμπληρώστε τη λέξη/φράση που λείπει</i> <i>Στη θεραπεία της περιφερικής αποφρακτικής αγγειίτιδας και των συμπτωμάτων της υπερτροφίας του προστάτη, χρησιμοποιείται ένας συγκεκριμένος τύπος αναστολέων που είναι γνωστοί ως _____</i>	ΦΑΡΜΑΚΟΛΟΓΙΑ	1 λεπτό
	α.	β1 αναστολείς		
	β.	γ1 αναστολείς		
	γ.	α1 αναστολείς		

140		<i>Συμπληρώστε τη λέξη/φράση που λείπει</i> <i>Σε περίπτωση απότομης διακοπής μετά από μακροχρόνια χορήγηση γλυκοκορτικοστεροειδών, ο ασθενής μπορεί να υποστεί κρίση τύπου _____</i>	ΦΑΡΜΑΚΟΛΟΓΙΑ	1 λεπτό
	α.	Cushing		
	β.	Addison		
	γ.	Parkinson		

141		<i>Συμπληρώστε τη λέξη/φράση που λείπει</i> <i>Στα κύτταρα, τα νιτρώδη μετατρέπονται σε νιτρικά οξείδια και ενώνονται με _____ ομάδες, σχηματίζοντας νιτροζοθειόλες</i>	ΦΑΡΜΑΚΟΛΟΓΙΑ	1 λεπτό
	α.	σουλφυδριλικές (-SH)		
	β.	καρβοξυλικές (-COOH)		
	γ.	αμινομάδες (-NH ₂)		

142		<i>Η ατενολόλη είναι υδρόφιλος εκλεκτικός β1 αναστολέας.</i>	ΦΑΡΜΑΚΟΛΟΓΙΑ	1 λεπτό
	α.	Σωστό		
	β.	Λάθος		

--	--	--	--	--

--	--	--	--	--

143		<i>Η μετοπροπολόλη: λιπόφιλος εκλεκτικός β1 - αναστολέας</i>	ΦΑΡΜΑΚΟΛΟΓ ΙΑ	1 λεπτό
	α.	Σωστό		
	β.	Λάθος		

--	--	--	--	--

144		<i>Οι διϋδροπυριδίνες συνήθως προκαλούν έντονη αγγειοδιαστολή των αρτηριδίων και ελαττώνουν την αρτηριακή πίεση και το μεταφορτίο της καρδιάς.</i>	ΦΑΡΜΑΚΟΛΟΓ ΙΑ	1 λεπτό
	α.	Σωστό		
	β.	Λάθος		

--	--	--	--	--

145		<i>Το νικοτινικό οξύ είναι υποχοληστεριναιμικό φάρμακο, όμως, απαιτεί μικρή ημερησία δόση.</i>	ΦΑΡΜΑΚΟΛΟΓ ΙΑ	1 λεπτό
	α.	Σωστό		
	β.	Λάθος		

--	--	--	--	--

146		<i>Οι στατίνες προκαλούν ενδοκυττάρια αναστολή της πρώιμης φάσης της βιοσύνθεσης της χοληστερίνης</i>	ΦΑΡΜΑΚΟΛΟΓ ΙΑ	1 λεπτό
	α.	Σωστό		
	β.	Λάθος		

--	--	--	--	--

147		<i>Οι υποδοχείς ενεργοποιούνται από τα φάρμακα για να παράγουν ενέργεια μέσω βιοχημικών αντιδράσεων.</i>	ΦΑΡΜΑΚΟΛΟΓ ΙΑ	1 λεπτό
	α.	Σωστό		
	β.	Λάθος		

--	--	--	--	--

148	Αντιστοιχίστε τους όρους της στήλης 1 με την επεξήγηση της στήλης 2:			ΦΑΡΜΑΚΟΛΟΓΙΑ	1 λεπτό	
	ΣΤΗΛΗ 1		ΣΤΗΛΗ 2			
	α.	Φαινόλη και παράγωγα, εξαχλωροφαίνιο διάλυμα 3%	1.	Απολύμανση τραυμάτων		
	β.	Χλωραμίνη Τ, Υποχλωρικό Να	2.	Αντισηψία πριν από εγχειρήσεις		
	γ.	Αλκοόλες, διάλυμα αιθανόλης 70%, ισοπροπυλική αλκοόλη 50%, φορμαλδεΐδη 40%.	3.	Απολύμανση εργαλείων και χώρων		
δ.	Διάλυμα Θυμόλης 1-3%	4.	Αντισηπτικά του δέρματος			

149	Αντιστοιχίστε τους όρους της στήλης 1 με την επεξήγηση της στήλης 2:			ΦΑΡΜΑΚΟΛΟΓΙΑ	1 λεπτό	
	ΣΤΗΛΗ 1		ΣΤΗΛΗ 2			
	α.	Φυσικές πενικιλίνες	1.	Μεθικιλίνη, ναφκιλίνη, Δικλοξακιλίνη		
	β.	Αντισταφυλοκοκκικές πενικιλίνες	2.	Καρβοξυκιλίνες, τερκακιλίνη, πιπερακιλίνη, μεζλοκιλίνη		
	γ.	Αμινοπενικιλίνες (ημισυνθετικές)	3.	Κρυσταλλική πενικιλίνη G, Πενικιλίνη V		
δ.	Αντιψευδομοναδιακές πενικιλίνες	4.	Αμπικιλίνη, αμοξυκιλίνη			

150	Αντιστοιχίστε τους όρους της στήλης 1 (τόπος χορήγησης φαρμάκων) με την επεξήγηση της στήλης 2 (απορρόφηση φαρμάκου):			ΦΑΡΜΑΚΟΛΟΓΙΑ	1 λεπτό
	ΣΤΗΛΗ 1		ΣΤΗΛΗ 2		
	α.	Δέρμα	1.	Ταχύτατη.	
β.	Στόμα - Υπογλώττια	2.	Καλή μόνον για φάρμακα με ασθενή όξινη pKa.		

γ.	Στομάχι	3.	Καλή για φάρμακα με ασθενή αλκαλική pKa.		
δ.	Δωδεκαδάκτυλο - Λεπτό έντερο	4.	Καλή με τη βοήθεια ουσιών για τοπική δράση – Άμεση και μεγάλη για πτητικά.		

3.2 Απαντήσεις ερωτήσεων πολλαπλής επιλογής

Παρατίθεται ο κατάλογος των απαντήσεων στις ερωτήσεις πολλαπλής επιλογής που μπορούν να αξιοποιηθούν στο πλαίσιο των γραπτών εξετάσεων πιστοποίησης της ειδικότητας.

ΚΑΤΑΛΟΓΟΣ ΑΠΑΝΤΗΣΕΩΝ ΣΤΙΣ ΕΡΩΤΗΣΕΙΣ ΠΟΛΛΑΠΛΗΣ ΕΠΙΛΟΓΗΣ ΓΙΑ ΤΗΝ ΑΠΟΤΙΜΗΣΗ ΓΝΩΣΕΩΝ ΚΑΙ ΔΕΞΙΟΤΗΤΩΝ	
A/A Ερώτησης	Σωστή απάντηση
1	γ
2	β
3	δ
4	α
5	β
6	γ
7	α
8	β
9	α-2 / β-4 / γ-1 / δ-3
10	α
11	γ
12	β
13	δ
14	α
15	γ
16	α
17	β
18	α-4 / β-2 / γ-1 / δ-3
19	β
20	α
21	γ
22	δ
23	β
24	α
25	α
26	β
27	α-4 / β-1 / γ-3 / δ-2
28	β
29	γ
30	δ

31	α
32	γ
33	γ
34	β
35	α
36	$\alpha-2 / \beta-3 / \gamma-1 / \delta-4$
37	β
38	γ
39	δ
40	β
41	γ
42	γ
43	β
44	β
45	α
46	β
47	$\alpha-3 / \beta-1 / \gamma-2$
48	$\alpha-2 / \beta-3 / \gamma-1$
49	α
50	β
51	γ
52	δ
53	β
54	α
55	β
56	γ
57	α
58	β
59	α
60	$\alpha-3 / \beta-1 / \gamma-2$
61	$\alpha-3 / \beta-4 / \gamma-2 / \delta-1$
62	γ
63	β
64	α
65	β
66	γ
67	α
68	β
69	γ

70	δ
71	α
72	α
73	β
74	γ
75	β
76	α
77	α
78	β
79	α
80	β
81	$\alpha-3 / \beta-4 / \gamma-1 / \delta-2$
82	$\alpha-3 / \beta-1 / \gamma-4 / \delta-2$
83	$\alpha-2 / \beta-3 / \gamma-4 / \delta-1$
84	β
85	γ
86	α
87	δ
88	α
89	β
90	γ
91	δ
92	α
93	β
94	α
95	β
96	α
97	α
98	β
99	α
100	β
101	α
102	β
103	$\alpha-3 / \beta-2 / \gamma-4 / \delta-1$
104	$\alpha-2 / \beta-3 / \gamma-4 / \delta-1$
105	$\alpha-3 / \beta-1 / \gamma-2 / \delta-4$
106	α
107	β
108	γ

109	δ
110	γ
111	β
112	α
113	δ
114	β
115	α
116	δ
117	α
118	γ
119	α
120	β
121	α
122	β
123	α
124	β
125	$\alpha-2 / \beta-4 / \gamma-1 / \delta-3$
126	$\alpha-1 / \beta-3 / \gamma-4 / \delta-2$
127	$\alpha-4 / \beta-3 / \gamma-1 / \delta-2$
128	β
129	γ
130	α
131	δ
132	α
133	β
134	γ
135	δ
136	α
137	γ
138	α
139	γ
140	β
141	α
142	α
143	β
144	α
145	β
146	α
147	β

148	$\alpha-2 / \beta-1 / \gamma-4 / \delta-3$
149	$\alpha-3 / \beta-1 / \gamma-4 / \delta-2$
150	$\alpha-4 / \beta-1 / \gamma-2 / \delta-3$

4. Πρακτικό Μέρος των εξετάσεων

Η Ενότητα 4 περιλαμβάνει τα θέματα εξέτασης του πρακτικού μέρους των εξετάσεων Πιστοποίησης και τις απαντήσεις τους.

Το σύνολο των ερωτήσεων που μπορούν να αξιοποιηθούν στο πλαίσιο των γραπτών εξετάσεων πιστοποίησης της ειδικότητας «Κοινωνικών Φροντιστών» είναι πενήντα (50) ερωτήσεις πρακτικής κατεύθυνσης κλειστού τύπου

Εκ του ανωτέρω καταλόγου Θεμάτων πρακτικής κατεύθυνσης των εξετάσεων πιστοποίησης των αποφοίτων ΕΠΑ.Σ. Μαθητείας της Δ.ΥΠ.Α. αντιστοιχεί στο πενήντα τοις εκατό (50%) της εξεταστικής διαδικασίας και περιλαμβάνει δέκα (10) ερωτήσεις. Ο εξεταζόμενος απαιτείται να επιλέξει τη σωστή ή τις σωστές απαντήσεις από περιορισμένο αριθμό προτεινόμενων απαντήσεων.

Οι ερωτήσεις διακρίνονται σε πολλαπλής επιλογής, οι οποίες διαφοροποιούνται ταυτόχρονα ως προς το είδος και ως προς τον βαθμό δυσκολίας.

ΕΡΩΤΗΣΕΙΣ ΠΟΛΛΑΠΛΗΣ ΕΠΙΛΟΓΗΣ- ΚΛΕΙΣΤΟΥ ΤΥΠΟΥ

ΟΜΑΔΑ Α. Πολλαπλής Επιλογής

Ανέρχονται σε 30 και αντιστοιχούν κατά προσέγγιση στο 60% του συνόλου των ερωτήσεων.

ΟΜΑΔΑ Β. Ερωτήσεις Σωστού/Λάθους-Ναι/Όχι

Ανέρχονται σε 13 και αντιστοιχούν κατά προσέγγιση στο 25% του συνόλου των ερωτήσεων.

ΟΜΑΔΑ Γ. Ερωτήσεις αντιστοίχισης

Ανέρχονται σε 7 και αντιστοιχούν κατά προσέγγιση στο 15% του συνόλου των ερωτήσεων

Τα θέματα αντλούνται και από τις τρεις ομάδες ερωτήσεων και επιλέγονται με ηλεκτρονική κλήρωση.

4.1 Ερωτήσεις πολλαπλής επιλογής

Παρατίθεται ο κατάλογος των ερωτήσεων πολλαπλής επιλογής που μπορούν να αξιοποιηθούν στο πλαίσιο των γραπτών εξετάσεων πιστοποίησης της ειδικότητας.

ΚΑΤΑΛΟΓΟΣ ΕΡΩΤΗΣΕΩΝ ΠΟΛΛΑΠΛΗΣ ΕΠΙΛΟΓΗΣ ΓΙΑ ΤΗΝ ΑΠΟΤΙΜΗΣΗ ΓΝΩΣΕΩΝ ΚΑΙ ΔΕΞΙΟΤΗΤΩΝ

Απαιτούμενος χρόνος απάντησης	Μαθησιακή Ενότητα	ΕΡΩΤΗΣΕΙΣ	A/A Ερωτ.
-------------------------------	-------------------	-----------	-----------

1		<i>Ποια είναι η νοσηλευτική φροντίδα στην περίπτωση εξωτερικής ωτίτιδας;</i>	ΝΟΣΗΛΕΥΤΙΚΗ	1 λεπτό
	α.	Θερμά επιθέματα για την ανακούφιση του πόνου και παυσίπονα		
	β.	Λάδι και νερό σε βαμβάκι		
	γ.	Καλή διατροφή		
	δ.	Καθαρισμός με μπατονέτες		

2		<i>Τι γίνεται στην απόφραξη έξω ακουστικού πόρου όταν το ξένο σώμα απορροφά το υγρό και φουσκώνει;</i>	ΝΟΣΗΛΕΥΤΙΚΗ	1 λεπτό
	α.	γίνεται ενστάλαξη νερού ή λαδιού ή οιοπνεύματος		
	β.	αποφεύγεται η πλύση του αυτιού		
	γ.	γίνεται ενστάλαξη οξυζενέ ή γλυκερίνης για 2 ημέρες		

3		<i>Τι γίνεται στην απόφραξη έξω ακουστικού πόρου από έντομο;</i>	ΝΟΣΗΛΕΥΤΙΚΗ	1 λεπτό
	α.	γίνεται ενστάλαξη νερού ή λαδιού ή οιοπνεύματος		
	β.	αποφεύγεται η πλύση του αυτιού		
	γ.	γίνεται ενστάλαξη οξυζενέ ή γλυκερίνης για 2 ημέρες		

4		<i>Τι γίνεται στην απόφραξη έξω ακουστικού πόρου από σκληρό βύσμα;</i>	ΝΟΣΗΛΕΥΤΙΚΗ	1 λεπτό
	α.	γίνεται ενστάλαξη νερού ή λαδιού ή οιοπνεύματος		
	β.	αποφεύγεται η πλύση του αυτιού		
	γ.	γίνεται ενστάλαξη οξυζενέ ή γλυκερίνης για 2 ημέρες		

5		<i>Πόσο θα πρέπει να είναι η θερμοκρασία του διαλύματος κατά τη διαδικασία πλύσης του αυτιού;</i>	ΝΟΣΗΛΕΥΤΙΚΗ	1 λεπτό
	α.	5°C – 10 °C		
	β.	15°C – 20 °C		
	γ.	37°C – 40 °C		
	δ.	50°C – 60 °C		

6		<i>Τι κάνουμε στην περίπτωση όπου ένας ασθενής εμφανίζει φωτοφοβία;</i>	ΝΟΣΗΛΕΥΤΙΚΗ	1 λεπτό
	α.	Οδηγούμε τον ασθενή σε ένα έντονα φωτισμένο δωμάτιο		
	β.	Επιτρέπουμε στον ασθενή να βλέπει τηλεόραση με έντονα και φωτεινά χρώματα		
	γ.	Περιμένουμε να περάσει η ενόχληση χωρίς να κάνουμε κάτι		
	δ.	Γίνεται χορήγηση σκούρων γυαλιών ή ειδικών γυαλιών ύπνου.		

7		<i>Τι γίνεται κατά την προεγχειρητική νοσηλευτική φροντίδα σε παθήσεις του ματιού;</i>	ΝΟΣΗΛΕΥΤΙΚΗ	1 λεπτό
	α.	καλλιέργεια υγρού επιπεφυκότα και αντιβιογράμμα.		
	β.	αξονική τομογραφία τραχήλου		
	γ.	triplex μυοσκελετικού συστήματος		
	δ.	Triplex καρωτίδας		

8		<i>Συμπληρώστε τη λέξη/φράση που λείπει</i>	ΝΟΣΗΛΕΥΤΙΚΗ	1 λεπτό
		<i>Στην περίπτωση διαστρέμματος, ο/η νοσηλευτής/τρια τοποθετεί _____ στο σημείο του διαστρέμματος,</i>		
	α.	θερμά επιθέματα		
	β.	ψυχρά επιθέματα		
	γ.	έμπλαστρο		

9		<i>Συμπληρώστε τη λέξη/φράση που λείπει</i>	ΝΟΣΗΛΕΥΤΙΚΗ	1 λεπτό
		<i>Στην περίπτωση κατάγματος, το άκρο που φέρει το κάταγμα διατηρείται _____ επίπεδο της καρδιάς</i>		
	α.	στο		
	β.	κάτω από		
	γ.	πάνω από το		

10		<i>Συμπληρώστε τη λέξη/φράση που λείπει</i>	ΝΟΣΗΛΕΥΤΙΚΗ	1 λεπτό
		<i>Μετά την εφαρμογή της έλξης παρακολουθείται η νευρομυϊκή του κατάσταση _____ το πρώτο 24ωρο</i>		
	α.	κάθε 2 ώρες		
	β.	κάθε 6 ώρες		
	γ.	κάθε 12 ώρες		

11		<i>Συμπληρώστε τη λέξη/φράση που λείπει</i>	ΝΟΣΗΛΕΥΤΙΚΗ	1 λεπτό
		<i>Στα νεογνά μετά το δεύτερο 24ωρο της ζωής τους εμφανίζεται _____</i>		
	α.	υποχολερυθριναιμία		
	β.	υπερχολερυθριναιμία		
	γ.	διαχολερυθριναιμία		

12		<i>Συμπληρώστε τη λέξη/φράση που λείπει</i>	ΝΟΣΗΛΕΥΤΙΚΗ	1 λεπτό
		<i>Ο ομφάλιος λώρος πέφτει και επουλώνεται σε _____.</i>		
	α.	1-2 μέρες		
	β.	3-6 μήνες		
	γ.	10-15 μέρες		

13		<i>Συμπληρώστε τη λέξη/φράση που λείπει</i>	ΝΟΣΗΛΕΥΤΙΚΗ	1 λεπτό
		<i>Όταν ένα νεογνό γεννηθεί πριν από τις 38 εβδομάδες κύησης θεωρείται _____.</i>		
	α.	πρόωρο		
	β.	υπερώριμο		
	γ.	τελειόμηνο		

14		<i>Συμπληρώστε τη λέξη/φράση που λείπει</i>	ΝΟΣΗΛΕΥΤΙΚΗ	1 λεπτό
		<i>Οι ρινικοί καθετήρες που χρησιμοποιούνται στα παιδιά πρέπει να είναι _____</i>		
	α.	No 15-18		
	β.	No 8-10		
	γ.	No 1-2		

15		<i>Συμπληρώστε τη λέξη/φράση που λείπει</i>	ΝΟΣΗΛΕΥΤΙΚΗ	1 λεπτό
		<i>Στην περίπτωση γαστρεντερίτιδας το παιδί πρέπει να παίρνει _____ υγρών ανά κιλό βάρους τα πρώτα 24ωρα</i>		
	α.	20 g		
	β.	2000 g		
	γ.	200 g		

16		<i>Τί είναι τα Τ.Ε.Π.;</i>	ΝΟΣΗΛΕΥΤΙΚΗ	1 λεπτό
	α.	Τμήμα Επειγόντων Περιστατικών		
	β.	Τμήμα Επιμελητών Περιφέρειας		
	γ.	Τμήμα Επιληπτικών Περιστατικών		

17		<i>Συμπληρώστε τη λέξη/φράση που λείπει</i> <i>Πριν από τη χρήση του, το ατομικό θερμόμετρο θα πρέπει να _____.</i>	ΝΟΣΗΛΕΥΤΙΚΗ	1 λεπτό
	α.	βαθμονομείται		
	β.	απολυμένεται		
	γ.	ανανεώνεται		

18		<i>Συμπληρώστε τη λέξη/φράση που λείπει</i> <i>Κατά τη θερμομέτρηση από το στόμα ξεπλένεται το θερμόμετρο σε _____.</i>	ΝΟΣΗΛΕΥΤΙΚΗ	1 λεπτό
	α.	αλκοολικό διάλυμα		
	β.	ιώδιο		
	γ.	ποτήρι με το νερό		

19		<i>Συμπληρώστε τη λέξη/φράση που λείπει</i> <i>Σημειώνουμε τη θερμοκρασία του αρρώστου με _____ μολύβι στο θερμομετρικό διάγραμμα</i>	ΝΟΣΗΛΕΥΤΙΚΗ	1 λεπτό
	α.	μπλε		
	β.	κόκκινο		
	γ.	πράσινο		

20		<i>Συμπληρώστε τη λέξη/φράση που λείπει</i>	ΝΟΣΗΛΕΥΤΙΚΗ	1 λεπτό
		<i>Σε ένα υδραργυρικό πιεσόμετρο το μανόμετρο έχει στήλη αριθμημένη από _____.</i>		
	α.	0-30 atm		
	β.	0-30 mmHg		
	γ.	100-300 mmHg		
δ.	1000-3000 mmHg			

21		<i>Συμπληρώστε τη λέξη/φράση που λείπει</i>	ΝΟΣΗΛΕΥΤΙΚΗ	1 λεπτό
		<i>Στην τοποθέτηση του ασθενούς σε κατάρροπη θέση (Tredelenburg) το μαξιλάρι τοποθετείται σε σχήμα _____</i>		
	α.	άλφα (Β)		
	β.	έψιλον (Ε)		
γ.	γάμα (Γ)			

22		<i>Τί είναι καλό για την πρόληψη των κατακλίσεων;</i>	ΝΟΣΗΛΕΥΤΙΚΗ	1 λεπτό
	α.	Το καλό τέντωμα των σεντονιών		
	β.	Η αποφυγή συχνών αλλαγών της θέσης των ασθενών		
	γ.	Η διατήρηση της υγρασίας στο δέρμα		

23		<i>Τί είναι η σκωραμίδα;</i>	ΝΟΣΗΛΕΥΤΙΚΗ	1 λεπτό
	α.	Στηθοσκόπιο		
	β.	Ουροδοχείο		
	γ.	Όργανο για τη μέτρηση της πίεσης		

24		<i>Συμπληρώστε τη λέξη/φράση που λείπει</i>	ΝΟΣΗΛΕΥΤΙΚΗ	1 λεπτό
		<i>Ο σωλήνα αερίων για την κινητοποίηση του εντέρου δεν πρέπει να παραμένει παραπάνω από _____ στο ορθό.</i>		
	α.	120 λεπτά		
	β.	60 λεπτά		
	γ.	20 λεπτά		

25		<i>Τι είναι ο υποκλυσμός;</i>	ΝΟΣΗΛΕΥΤΙΚΗ	1 λεπτό
	α.	Η εισαγωγή υγρού στο ορθό ή στο έντερο του ασθενούς		
	β.	Η ακινητοποίηση του ασθενούς στο κρεβάτι		
	γ.	Η τοποθέτηση του ασθενούς σε ύπτια θέση.		

26		<i>Τι είναι η πολυπάργα;</i>	ΝΟΣΗΛΕΥΤΙΚΗ	1 λεπτό
	α.	Μηχάνημα για τη μέτρηση πίεσης		
	β.	Αποστειρωμένη λαβίδα		
	γ.	Τύπος βελόνας για παρακέντηση		

27		<i>Ποια είναι η ενδεδειγμένη θερμοκρασία του νερού κατά την προετοιμασία μιας θερμοφόρας;</i>	ΝΟΣΗΛΕΥΤΙΚΗ	1 λεπτό
	α.	20 °C – 30 °C		
	β.	70 °C – 80 °C		
	γ.	50 °C – 60 °C		

28		<i>Συμπληρώστε τη λέξη/φράση που λείπει</i>	ΝΟΣΗΛΕΥΤΙΚΗ	1 λεπτό
		<i>Ο ρινογαστρικός σωλήνας σίτισης (levin) πρέπει να αλλάζεται κάθε _____.</i>		

	α.	10 ημέρες		
	β.	30 ημέρες		
	γ.	60 ημέρες		

		<i>Συμπληρώστε τη λέξη/φράση που λείπει</i>		
		<i>Τα υπογλώσσια φάρμακα πρέπει να _____.</i>		
29	α.	καταπίνονται ολόκληρα.	ΝΟΣΗΛΕΥΤΙΚΗ	1 λεπτό
	β.	τοποθετούνται κάτω από τη γλώσσα.		
	γ.	τοποθετούνται πάνω από τη γλώσσα.		

		<i>Συμπληρώστε τη λέξη/φράση που λείπει</i>		
		<i>Στην υποδόρια ένεση η βελόνα εισέρχεται στον ιστό σε γωνία _____.</i>		
30	α.	90°	ΝΟΣΗΛΕΥΤΙΚΗ	1 λεπτό
	β.	180°		
	γ.	45°		

		<i>Στη σιδηροπενική αναιμία η χορήγηση Fe πρέπει να συνεχιστεί 2 μέρες τουλάχιστον μετά την επάνοδο της αιμοσφαιρίνης στα φυσιολογικά επίπεδα</i>		
31	α.	Σωστό	ΝΟΣΗΛΕΥΤΙΚΗ	1 λεπτό
	β.	Λάθος		

		<i>Στο βρογχικό άσθμα πρέπει να αποφεύγονται τα ρεύματα και να γίνεται υγραποίηση της ατμόσφαιρας.</i>		
32	α.	Σωστό	ΝΟΣΗΛΕΥΤΙΚΗ	1 λεπτό
	β.	Λάθος		

33		<i>Οι ηλικιωμένοι ΔΕΝ πρέπει να συμμετέχουν ενεργά στην κοινωνική ζωή του τόπου.</i>	ΝΟΣΗΛΕΥΤΙΚΗ	1 λεπτό
	α.	Σωστό		
	β.	Λάθος		

34		<i>Στην πνευμονία πρέπει το άρρωστο παιδί να διατηρείται ζεστό και στεγνό, γιατί έχει εφιδρώσεις.</i>	ΝΟΣΗΛΕΥΤΙΚΗ	1 λεπτό
	α.	Σωστό		
	β.	Λάθος		

35		<i>Ολιγουρία εμφανίζεται όταν έχουμε αποβολή ούρων πάνω από 2500 ml/24ωρο.</i>	ΝΟΣΗΛΕΥΤΙΚΗ	1 λεπτό
	α.	Σωστό		
	β.	Λάθος		

36		<i>Κατά την μηνιγγίτιδα απαιτείται διατήρηση του ισοζυγίου ύδατος και ηλεκτρολυτών.</i>	ΝΟΣΗΛΕΥΤΙΚΗ	1 λεπτό
	α.	Σωστό		
	β.	Λάθος		

37		<i>Η λευκωματουρία είναι η παρουσία πυοσφαιρίων στα ούρα.</i>	ΝΟΣΗΛΕΥΤΙΚΗ	1 λεπτό
	α.	Σωστό		
	β.	Λάθος		

--	--	--	--	--

--	--	--	--	--

38		<i>Έλξη είναι μια μέθοδος συντηρητικής θεραπείας των καταγμάτων.</i>	ΝΟΣΗΛΕΥΤΙΚΗ	1 λεπτό
	α.	Σωστό		
	β.	Λάθος		

--	--	--	--	--

--	--	--	--	--

39		<i>Οι καθετήρες μπορούν να είναι φτιαγμένοι μόνο από σιλικόνη</i>	ΝΟΣΗΛΕΥΤΙΚΗ	1 λεπτό
	α.	Σωστό		
	β.	Λάθος		

--	--	--	--	--

--	--	--	--	--

40		<i>Η βαγοτομή είναι η εκτομή των νεύρων του παρασυμπαθητικού, που ευθύνονται για τη γαστρική έκκριση</i>	ΝΟΣΗΛΕΥΤΙΚΗ	1 λεπτό
	α.	Σωστό		
	β.	Λάθος		

--	--	--	--	--

--	--	--	--	--

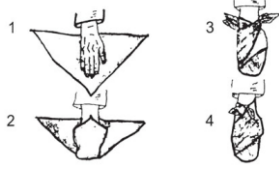
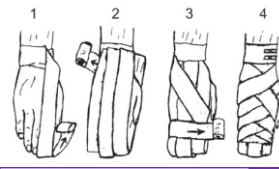
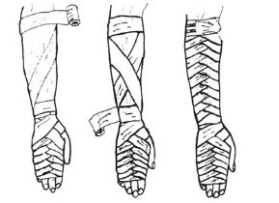
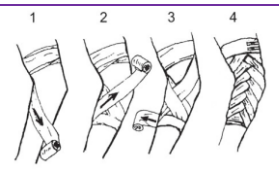
41		<i>Στο νοσοκομείο η M.B.N. είναι η Μονάδα Βαρέων Νοσημάτων</i>	ΝΟΣΗΛΕΥΤΙΚΗ	1 λεπτό
	α.	Σωστό		
	β.	Λάθος		

--	--	--	--	--


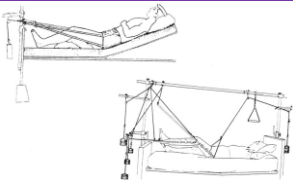
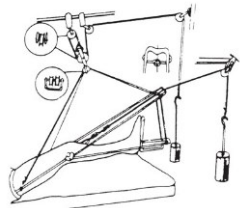
--	--	--	--	--

42		<i>Τα κλινοσκεπάσματα είναι τα σκεπάσματα του αρρώστου στο κρεβάτι.</i>	ΝΟΣΗΛΕΥΤΙΚΗ	1 λεπτό
	α.	Σωστό		
	β.	Λάθος		




43		<i>Η σκωραμίδα είναι ένα νοσηλευτικό όργανο για τη μέτρηση της πίεσης.</i>	ΝΟΣΗΛΕΥΤΙΚΗ	1 λεπτό
	α.	Σωστό		
	β.	Λάθος		


44		<i>Αντιστοιχίστε τους όρους της στήλης 1 με την επεξήγηση της στήλης 2:</i>	ΝΟΣΗΛΕΥΤΙΚΗ	1 λεπτό	
		ΣΤΗΛΗ 1			ΣΤΗΛΗ 2
	α.	ΠΕΡΙΔΕΣΗ ΑΝΤΙΒΡΑΧΙΟΥ ΜΕ ΚΥΛΙΝΔΡΙΚΟ ΕΠΙΔΕΣΜΟ			1. 
	β.	ΠΕΡΙΔΕΣΗ ΑΚΡΟΥ ΧΕΡΙΟΥ ΜΕ ΤΡΙΓΩΝΙΚΟ ΕΠΙΔΕΣΜΟ			2. 
	γ.	ΠΕΡΙΔΕΣΗ ΑΓΚΩΝΑ ΜΕ ΚΥΛΙΝΔΡΙΚΟ ΕΠΙΔΕΣΜΟ			3. 
δ.	ΟΛΙΚΗ ΠΕΡΙΔΕΣΗ ΑΚΡΟΥ ΧΕΡΙΟΥ ΜΕ ΚΥΛΙΝΔΡΙΚΟ ΕΠΙΔΕΣΜΟ	4. 			





45		<i>Αντιστοιχίστε τους όρους της στήλης 1 με την επεξήγηση της στήλης 2:</i>	ΝΟΣΗΛΕΥΤΙΚΗ	1 λεπτό
		ΣΤΗΛΗ 1		


	α.	Σταθερή έλξη	1.			
	β.	Ισορροπούμενη έλξη	2.			
	γ.	Πυελική έλξη	3.			



46	<i>Αντιστοιχίστε τους όρους της στήλης 1 με την επεξήγηση της στήλης 2:</i>			ΝΟΣΗΛΕΥΤΙΚΗ	1 λεπτό	
	ΣΤΗΛΗ 1		ΣΤΗΛΗ 2			
	α.	Μέτρηση κερκιδικού σφυγμού	1.	Μολύβι πράσινο		
	β.	Μέτρηση αναπνοών	2.	Μολύβι μπλε		
	γ.	Μέτρηση αρτηριακής πίεσης	3.	Μολύβι κόκκινο		





47	<i>Αντιστοιχίστε τους όρους της στήλης 1 με την επεξήγηση της στήλης 2:</i>			ΝΟΣΗΛΕΥΤΙΚΗ	1 λεπτό	
	ΣΤΗΛΗ 1		ΣΤΗΛΗ 2			
	α.	Σήμα χειρουργείου	1.			
	β.	Μετάγγιση ολικού αίματος	2.			
γ.	Χορήγηση συμπυκνωμένων ερυθρών	3.				

	δ.	Χορήγηση πλάσματος	4.	 (β)		
--	-----------	--------------------	-----------	--	--	--

		<i>Αντιστοιχίστε τους όρους της στήλης 1 με την επεξήγηση της στήλης 2:</i>		ΝΟΣΗΛΕΥΤΙΚΗ	1 λεπτό	
		ΣΤΗΛΗ 1	ΣΤΗΛΗ 2			
48	α.	Φλεβοκαθετήρες	1.			
	β.	Συσκευή ορού 3 way	2.			
	γ.	Δίσκος ενστάλαξης κολλυρίου	3.			
	δ.	Δίσκος φαρμάκων χορηγούμενων από το στόμα	4.			

		<i>Αντιστοιχίστε τους όρους της στήλης 1 με την επεξήγηση της στήλης 2:</i>		ΝΟΣΗΛΕΥΤΙΚΗ	1 λεπτό	
		ΣΤΗΛΗ 1	ΣΤΗΛΗ 2			
49	α.	Βελόνα στερνικής παρακέντησης	1.			
	β.	Βελόνα οστεομυελικής βιοψίας	2.			

	γ.	Βελόνα Abram's (βιοψία υπεζωκότα)	3.			
	δ.	Βελόνα οσφυονωτιαίας παρακέντησης	4.			

50	Αντιστοιχίστε τους όρους της στήλης 1 με την επεξήγηση της στήλης 2:			ΝΟΣΗΛΕΥΤΙΚΗ	1 λεπτό	
	ΣΤΗΛΗ 1		ΣΤΗΛΗ 2			
	α.	Σετ βιοψίας ήπατος	1.			
	β.	Μάσκα οξυγόνου Ventruri	2.			
	γ.	Είδη καθετήρων	3.			
δ.	Ουροσυλλέκτης	4.				

4.2 Απαντήσεις ερωτήσεων πολλαπλής επιλογής

Παρατίθεται ο κατάλογος των απαντήσεων στις ερωτήσεις πολλαπλής επιλογής που μπορούν να αξιοποιηθούν στο πλαίσιο των γραπτών εξετάσεων πιστοποίησης της ειδικότητας.

ΚΑΤΑΛΟΓΟΣ ΑΠΑΝΤΗΣΕΩΝ ΣΤΙΣ ΕΡΩΤΗΣΕΙΣ ΠΟΛΛΑΠΛΗΣ ΕΠΙΛΟΓΗΣ ΓΙΑ ΤΗΝ ΑΠΟΤΙΜΗΣΗ ΓΝΩΣΕΩΝ ΚΑΙ ΔΕΞΙΟΤΗΤΩΝ	
A/A Ερώτησης	Σωστή απάντηση
1	α
2	β
3	α
4	γ
5	γ
6	δ
7	α
8	β
9	γ
10	α
11	β
12	γ
13	α
14	β
15	γ
16	α
17	β
18	γ
19	α
20	β
21	γ
22	α
23	β
24	γ
25	α
26	β
27	γ
28	α
29	β
30	γ

31	β
32	α
33	β
34	α
35	β
36	α
37	β
38	α
39	β
40	α
41	β
42	α
43	β
44	$\alpha-3 / \beta-1 / \gamma-4 / \delta-2$
45	$\alpha-1 / \beta-3 / \gamma-2$
46	$\alpha-3 / \beta-1 / \gamma-2$
47	$\alpha-2 / \beta-4 / \gamma-3 / \delta-1$
48	$\alpha-1 / \beta-3 / \gamma-2 / \delta-4$
49	$\alpha-2 / \beta-3 / \gamma-4 / \delta-1$
50	$\alpha-4 / \beta-1 / \gamma-2 / \delta-3$

ΒΙΒΛΙΟΓΡΑΦΙΑ

Βιβλιογραφικές αναφορές σχετικές με την ειδικότητα

«Πρώτες βοήθειες – Πρακτικός οδηγός» Armstrong J.V., 2009. Ιατρικές Εκδόσεις Π.Χ. Πασχαλίδης.

«Σύγχρονη εισαγωγή στην κοινωνιολογία» Edles L., Thompson K., Alexander J., 2016. Εκδόσεις Gutenberg.

«Ψυχιατρική» Rodin I., Stevens L., 2016. Εκδόσεις Παρισιάνου Α.Ε.

«Συνοπτική φυσιολογία του ανθρώπου» Schmidt F.R., 2010. Εκδόσεις Ιατρικές Π.Χ. Πασχαλίδης.

«Κλινική νευρολογία» Sealfon S. Stacy C., Motiwala R., 2020. Εκδόσεις University Studio Press.

«Κλινική νοσηλευτική» Αθανάτου Κ.Ε., 2010. Εκδόσεις Β.Γ. Παρισιάνος.

«Ανατομία του ανθρώπου» Γεωργίου Π., 2008. Εκδόσεις University Studio Press.

«Εργασία και εκπαίδευση» Δαφέρμος Ο.Ε., 1999. Εκδόσεις Έκφραση.

«Εισαγωγή στην παθολογία» Ζιάκας Γ.Ν., 2001. Εκδόσεις University Studio Press.

«Η συμβουλευτική στην κοινωνική εργασία» Κανδυλάκη Α., 2008. Εκδόσεις Τόπος.

«Επιχειρηματικότητα και επιχειρηματικό σχέδιο» Λασπίτα Σ., Σαρρή Κ., 2022. Εκδόσεις Τζιόλα.

«Ιατρική φαρμακολογία» Μαρσέλος Μ., 2009. Εκδόσεις Gutenberg.

«Υγιεινή και θεραπευτική διαίτα» Πέτρου Η., 2010. Εκδόσεις Πουρνάρας.

«Νευρολογία» Τάσκος Ν., 2016. Εκδόσεις University Studio Press.

Βιβλιογραφικές αναφορές σχετικές με τη Μεθοδολογία Ανάπτυξης των Τραπεζών Θεμάτων

Καραλής, Θ., Μαρκίδης, Κ., Βαρβιτσιώτη, Ρ., Νάτσης, Καρατράσογλου, Ι., Παπαευσταθίου, Κ., Γουλάς, Χ., Λιντζέρης, Π., (2021). Μεθοδολογικές προσεγγίσεις ανάπτυξης επαγγελματικών περιγραμμάτων και πλαισίων εκπαιδευτικών προδιαγραφών προγραμμάτων. Αθήνα: ΙΝΕ/ΓΣΕΕ. https://www.inegsee.gr/wp-content/uploads/2021/07/Me8odologia_EP_Ebook.pdf

Σχετική Εθνική Νομοθεσία

ΦΕΚ 254/Α/21-12-2020.Νόμος υπ' αριθμ. 4763/2020. *Εθνικό Σύστημα Επαγγελματικής Εκπαίδευσης, Κατάρτισης και Διά Βίου Μάθησης, ενσωμάτωση στην ελληνική νομοθεσία της Οδηγίας (ΕΕ) 2018/958 του Ευρωπαϊκού Κοινοβουλίου και του Συμβουλίου της 28ης Ιουνίου 2018 σχετικά με τον έλεγχο αναλογικότητας πριν από τη θέσπιση νέας νομοθετικής κατοχύρωσης των επαγγελμάτων (ΕΕ L 173), κύρωση της Συμφωνίας μεταξύ της Κυβέρνησης της Ελληνικής Δημοκρατίας και της Κυβέρνησης της Ομοσπονδιακής Δημοκρατίας της Γερμανίας για το Ελληνογερμανικό Ίδρυμα Νεολαίας και άλλες διατάξεις.*

ΦΕΚ 1/2024/Τ.Β'/51/Κ6/02.01.2024 «Σύστημα Πιστοποίησης αποφοίτων ΕΠΑ.Σ. Μαθητείας και Π.ΕΠΑ.Σ. Μαθητείας της Δημόσιας Υπηρεσίας Απασχόλησης (Δ.ΥΠ.Α.).»

ΦΕΚ 5478/τ.Β'/ΦΒ6/100778/Κ3/15.09.2023 «Έκδοση Πρότυπου Οδηγού Κατάρτισης των Επαγγελματικών Σχολών (ΕΠΑ.Σ) Μαθητείας της Δ.ΥΠ.Α.»

Νόμος. 4115/2013 «Οργάνωση και λειτουργία Ιδρύματος Νεολαίας και Δια Βίου Μάθησης και Εθνικού Οργανισμού Πιστοποίησης Προσόντων και Επαγγελματικού Προσανατολισμού και άλλες διατάξεις» (Α' 24) και ειδικότερα των άρθρων 13, 14, 16, 18, 25 και 26.

Νόμος 4921/2022 «Δουλειές Ξανά: Αναδιοργάνωση Δημόσιας Υπηρεσίας Απασχόλησης και ψηφιοποίηση των υπηρεσιών της, αναβάθμιση δεξιοτήτων εργατικού δυναμικού και διάγνωσης των αναγκών εργασίας και άλλες διατάξεις» (Α' 75).

Την υπό στοιχεία 49718/2021 κοινή απόφαση των Υπουργών Παιδείας και Θρησκευμάτων και Εργασίας και Κοινωνικών Υποθέσεων «Μετατροπή των Επαγγελματικών Σχολών (ΕΠΑ.Σ) Μαθητείας του ΟΑΕΔ του ν. 3475/2006 (Α' 146) σε Επαγγελματικές Σχολές (ΕΠΑ.Σ) Μαθητείας του ΟΑΕΔ του ν. 4763/2020» (Β' 3078).

Την υπό στοιχεία 102791/2021 κοινή απόφαση των Υπουργών Παιδείας και Θρησκευμάτων και Εργασίας και Κοινωνικών Υποθέσεων «Κατάρτιση Κανονισμού Λειτουργίας Επαγγελματικών Σχολών (ΕΠΑ.Σ.) Μαθητείας του ΟΑΕΔ» (Β' 5832).

Την υπό στοιχεία ΦΒ7/108652/Κ3/2021 κοινή απόφαση των Υπουργών Οικονομικών, Ανάπτυξης και Επενδύσεων, Παιδείας και Θρησκευμάτων, Εργασίας και Κοινωνικών Υποθέσεων «Πλαίσιο Ποιότητας Μαθητείας» (Β' 4146)